

1 次の表は、北海道、沖縄県とA～Gの都府県の、面積と人口に関する2015年の統計を表しています。表中のA～Gはそれぞれ、[A東北、B関東、C中部、D近畿、E四国、F中国、G九州]地方にあるいずれかの都府県です。この表を見て下の問いに答えなさい。

『データでみる県勢』より作成

	面積 (km ²)	人口	人口密度 (人/1km ²)	人口増減数 (2010年と比べて)	65歳以上の 人口の割合(%)
北海道	78426	538.2万人	68.6	12.5万人減少	29.1
A	13784	191.4万人	138.9	11.5万人減少	28.7
B	2191	1351.5万人	6168.7	35.6万人増加	22.7
C	13562	209.9万人	154.8	5.4万人減少	30.1
D	8401	553.5万人	658.8	5.3万人減少	27.1
E	7104	72.8万人	102.5	3.6万人減少	32.8
F	7115	192.2万人	270.1	2.4万人減少	28.7
G	4986	510.2万人	1023.1	3.0万人減少	25.9
沖縄県	2281	143.4万人	628.4	4.1万人増加	19.6

問1 この表から読み取れることとして正しいものを、次のア～エから1つ選び、記号で答えなさい。

- ア 表中のどの都道府県も65歳以上の人口の割合が20%を超えている。
- イ 人口が多い県ほど人口密度が高い。
- ウ 人口減少の割合が最も大きいのはAである。
- エ 面積が大きい県ほど人口も多い。

問2 Aでは2011年に地震による津波によって原子力発電所の事故が起きました。右の地図は日本の原子力発電所の所在地を示しています。地図から読み取れることとして最も適当なものを、次ページの
ア～エから1つ選び、記号で答えなさい。



- ア 原子力発電所は電力を多く必要とする大都市の近くにつくられている。
- イ 原子力発電所は排水がしやすいなどの理由から沿岸部につくられている。
- ウ 原子力発電所がある都道府県の方が、ない都道府県よりも多い。
- エ 原子力発電所のある地域では住民による激しい反対運動が起こっている。

問3 Bは日本で最も人口の多い都府県です。Bに関する記述としてまちがっているものを、次のア～エから1つ選び、記号で答えなさい。

- ア Bは日本で最も面積の小さい都道府県である。
- イ Bは日本の政治・経済・情報・文化の中心地である。
- ウ Bでは2020年に世界的なスポーツイベントが開催される。
- エ Bには日本の最南端と最東端の島がふくまれる。

問4 Cは自然の豊かな都府県である。Cにある山脈としてまちがっているものを、次のア～エから1つ選び、記号で答えなさい。

- ア 赤石山脈 イ 奥羽山脈 ウ 木曾山脈 エ 飛驒山脈

問5 Cは果実や野菜の生産がさかんです。次の表はCで多くつくられているりんご・ぶどう・はくさいの生産量上位の都道府県を表しています。表中のX～Zにあてはまる都道府県の組み合わせとして正しいものを、下のア～カから1つ選び、記号で答えなさい。

	りんご	ぶどう	はくさい
1位	X	Y	Z
2位	C	C	C
3位	山形	山形	北海道

(2015年)

- ア X－茨城 Y－青森 Z－山梨
- イ X－茨城 Y－山梨 Z－青森
- ウ X－山梨 Y－茨城 Z－青森
- エ X－山梨 Y－青森 Z－茨城
- オ X－青森 Y－茨城 Z－山梨
- カ X－青森 Y－山梨 Z－茨城

問6 次の表はA・B・Cの都府県の「乗用車の100世帯あたりの保有台数」を表しています。Bにあたるものを表中のア～ウから1つ選び、記号で答えなさい。また、そのように考えた理由を書きなさい。

	乗用車の100世帯あたりの保有台数
ア	45.7台
イ	157.0台
ウ	159.4台

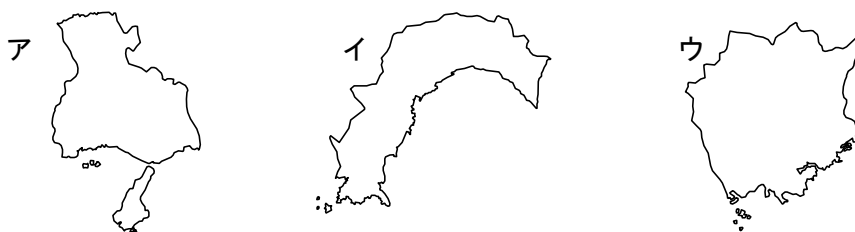
(2015年)

問7 Dは北と南の両方が海に面している。北と南にある海の組み合わせとして最も適当なものを、次のア～エから1つ選び、記号で答えなさい。

- ア 北－オホーツク海 南－太平洋 イ 北－日本海 南－太平洋
 ウ 北－日本海 南－瀬戸内海 エ 北－日本海 南－東シナ海

問8 Eでは温暖な気候を利用してきゅうりやピーマンなどを普通の栽培時期よりも早く栽培・収穫して出荷している。このような栽培方法を何というか答えなさい。

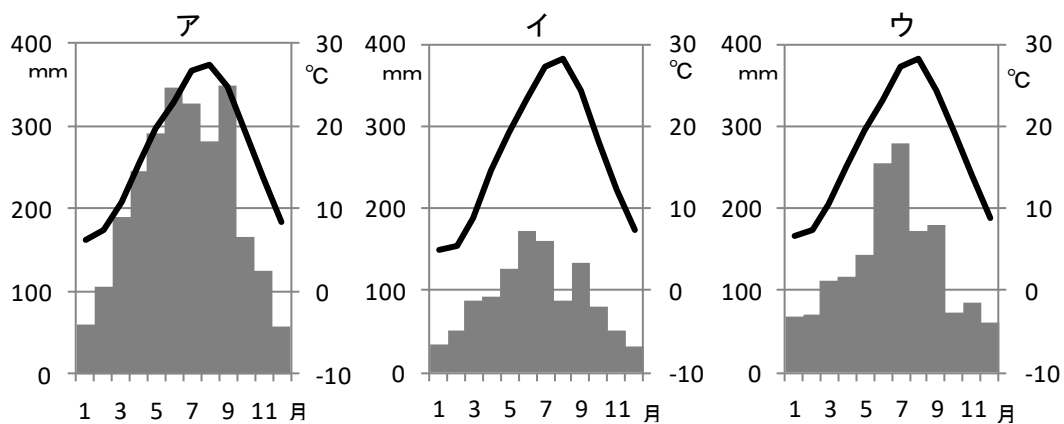
問9 次のア～ウは、D・E・Fの都府県のいずれかです。Fにあたるものを1つ選び、記号で答えなさい。



問10 Gでは2017年に新しく世界文化遺産が登録されました。世界文化遺産に登録されたものを、次のア～エから1つ選び、記号で答えなさい。

- ア 長崎の教会群とキリスト教関連遺産
 イ 金を中心とする佐渡鉱山の遺産群
 ウ 百舌鳥・古市古墳群
 エ 『神宿る島』宗像・沖ノ島と関連遺産群

問 11 次の図は、E・F・Gの都府県の県庁所在地の1年間の降水量と気温の変化を表しています。Fにあたるものをア～ウから1つ選び、記号で答えなさい。



問 12 北海道と沖縄県、およびDの県庁所在地名をそれぞれ漢字で答えなさい。

2 次の文章を読んで、あとの問いに答えなさい。

日本と朝鮮半島の国々とは古くから強い結びつきがあったことはよく知られています。日本人の生活を大きく変えた①米づくりの技術は、中国の南部や朝鮮半島から日本に伝わったとされています。また朝鮮半島からは鉄や紙の生産技術、②仏教、医学などが伝えられ、日本の生活や文化に大きな影響を与えました。奈良時代に中国に派遣された遣唐使も朝鮮半島を通して唐の長安を目指しました。日本と朝鮮半島の国々とは互いに行き来する中で、文化・技術を高めあったのです。

しかし、関係が悪化した時代もありました。③鎌倉時代に元の大軍が2度にわたって九州北部にせめてきた時には、朝鮮半島の人々も元に従い、日本の武士たちと戦いました。

④室町時代にはさかんに貿易が行われましたが、⑤豊臣秀吉が行った朝鮮出兵により朝鮮の国土は破壊され、多くの人々が殺害されたり、日本へ連れ去られたりしました。

⑥江戸時代には（ ⑦ ）藩が間に入って国交が回復され、文化交流も復活しました。また江戸幕府の将軍がかわったときに（ ⑧ ）と呼ばれる使節団が来日するようになり、江戸に着くまでの各地で歓迎を受けました。

明治時代には、日本政府は富国強兵のスローガンのもと、ヨーロッパの国々に追いつくためにも、工業をさかんにし、強い軍隊を持つことに力を入れました。日本の鎖国のような体制が維持されていた朝鮮に対し、日本は⑨不平等な内容の条約を結び、国を開かせる政策を進めました。朝鮮では清の影響が強かったため、日本と清は対立を深め、1894年には⑩日清戦争が起きました。その後日本は、朝鮮半島に勢力をのぼしてきたロシアとも対立しましたが、日露戦争で勝利した日本は、ロシアに対し、韓国（1897年に国号を朝鮮から変更）を日本の勢力のもとに置くことを認めさせました。そして1910年には人々の抵抗を軍隊でおさえ、⑪韓国を併合しました。この日本による支配は第二次世界大戦が終わるまで続きました。

⑫第二次世界大戦後、アメリカと（ ⑬ ）の対立が深まり、世界が2つに割れ始めました。朝鮮半島では大韓民国（韓国）と朝鮮民主主義人民共和国（北朝鮮）が建国され、その対立を背景に朝鮮戦争が起きました。アメリカ側の立場をとった日本は1965年に韓国との国交を正常化しましたが、北朝鮮とはいまだに正常化していません。

平成になり、2002年には日本と韓国で（ ⑭ ）が共催されるなど、友好関係を築く努力が行われてきました。しかし、まだまだ⑮解決していかなければならない問題も数多く残されています。同じ東アジアの国としてこれまでの関わりを正しく理解しつつ、両国が平和でより良い関係を築いていくために、世界情勢に関心を持ち、国民一人ひとりが考えていくことが大切です。

問1 下線部①の米づくりについて述べた文としてまちがっているものを、次のア～エから1つ選び、記号で答えなさい。

- ア 福岡県にある板付遺跡^{いせき}には、米づくりが行われていた跡^{あと}がある。
- イ 弥生時代^{しゅうかく}には、石包丁という石器が収穫のときに使われていた。
- ウ 米づくりにより人々の生活が安定したので、^{たてあな}竪穴住居はつくられなくなった。
- エ 良い土地や用水をめぐり、むらとむらの間で争いがおこるようになった。

問2 下線部②の仏教に関連して、次の人物(1)(2)と、その人物が行ったことがらについて述べた文A～Dとの組合せとして正しいものを、下のア～エから1つ選び、記号で答えなさい。

- (1) 聖徳太子^{しょうとくたいし} (2) 聖武天皇^{しょうむてんのう}

- A 十七条の憲法において仏教をあつく^{しんこう}信仰しなさいと定めた。
- B 人々のために橋や道、池や水路などをつくりながら仏教を広めた。
- C 仏教の力で社会の不安を^{しず}めて国を治めようとして、国ごとに国分寺を建てることを命じた。
- D 世の中に対する不安から極楽浄土^{じょくごく}へのあこがれが強まり、平等院鳳凰堂^{ほうおうどう}を建てた。

- ア (1) = A (2) = C イ (1) = A (2) = D
ウ (1) = B (2) = C エ (1) = B (2) = D

問3 下線部③について、次の絵はこの頃^{ころ}に描かれた「蒙古襲来絵詞^{まうこしゅうらいえことば}」である。この絵を参考にして、日本の武士が苦戦した理由を簡単に説明しなさい。



問4 下線部④について、室町時代に描かれた絵画として正しいものを、次のア～エから1つ選び、記号で答えなさい。

ア



イ



ウ



エ



問5 下線部⑤の豊臣秀吉について述べた文として正しいものを、次のア～エから1つ選び、記号で答えなさい。

- ア キリスト教を保護し、キリスト教の学校や教会堂を建てることを許可した。
- イ 武力で天下を統一しようという「天下布武」の印を使用した。
- ウ 大名が守るべききまりとして武家諸法度を制定した。
- エ 百姓たちから刀や鉄砲などを取り上げる刀狩を行った。

問6 下線部⑥に関連して、江戸時代の人々の暮らしについて説明した文として正しいものを、次のア～エから1つ選び、記号で答えなさい。

- ア 出島のオランダ人をまねて、太陽暦での新年を祝う人々もいた。
- イ まちにはガス灯がとまり、洋服を着る人や牛肉を食べる人が増えた。
- ウ 町人たちは寝殿造のやしきで暮らし、和歌やけまりなどを楽しんだ。
- エ ひらがなで書かれた本が一冊一円で売られ、楽しみのために本を読む人が増えた。

問7 文中の空らん（⑦）にあてはまる語句を、次のア～エから1つ選び、記号で答えなさい。

ア 薩摩^{さつま} イ 長州 ウ 対馬^{つしま} エ 松前

問8 文中の空らん（⑧）にあてはまる語句を、漢字で答えなさい。

問9 下線部⑨に関連して、次の文は、日本と朝鮮が1876（明治9）年に結んだ条約の一部です。この条文によって日本に認められた権利を何といいますか。

第十条 日本国の人民が、朝鮮国において罪をおかし、朝鮮国の人民と関係する事件が発生した場合には、日本国の役人の判断に任せる。・・・

問10 下線部⑩の日清戦争について述べた文として正しいものを、次のア～エから1つ選び、記号で答えなさい。

- ア この戦争に勝利した日本は、賠償金^{ばいしょうきん}を得て、さらに台湾^{たいわん}などの領土^{かくとく}を獲得して植民地にした。
- イ 日本海での戦いで相手艦隊^{かんたい}を破り、講和会議において樺太^{からふと}の南部と満州の鉄道などを得た。
- ウ この戦争の最中には輸出が増えて好景気をむかえ、戦争の終わりごろには米などの値段が急に高くなった。
- エ 北京郊外^{べきんこうがい}ではじまった戦いは中国全土へと広がり、日本軍が占領^{せんりょう}した首都では、武器を捨てた兵士や一般市民など多くの中国人が殺害された。

問11 下線部⑪に関連して、次の歌は、この出来事を批判したものである。作者である明治時代の歌人として正しいものを、次のア～エから1つ選び、記号で答えなさい。

地図の上 朝鮮国に黒々と 墨^{すみ}をぬりつつ 秋風^きを聴く

ア 木戸孝允^{たかよし} イ 本居宣長^{もとのおりのなが} ウ 野口英世^{ひでよ} エ 石川啄木^{たくぼく}

問 12 下線部⑫について，第二次世界大戦に関する語句としてまちがっているものを，次のア～クから2つ選び，記号で答えなさい。

- | | | | |
|--------|--------|--------|---------|
| ア 集団疎開 | イ 玉音放送 | ウ 原子爆弾 | エ 真珠湾攻撃 |
| オ 金の卵 | カ 配給制 | キ 殖産興業 | ク 特攻隊 |

問 13 文中の空らん（ ⑬ ）にあてはまる国名を答えなさい。

問 14 文中の空らん（ ⑭ ）にあてはまる語句を，次のア～エから1つ選び，記号で答えなさい。

- | | |
|----------|-----------|
| ア オリンピック | イ ワールドカップ |
| ウ サミット | エ 万国博覧会 |

問 15 下線部⑮について，朝鮮半島の韓国や北朝鮮と日本の間にはどのような問題がありますか。どちらかの国名をあげて，1つ具体例を答えなさい。

このページに問題はありません。

3 次の文章を読んで、あとの問いに答えなさい。

安倍晋三^{しんぞう}首相の内閣総理大臣在職日数が、2017年5月28日に1981日となり、小泉純一郎元首相の1980日^ぬを抜いて、戦後の首相としては3位になりました。この間、安倍政権によってアベノミクスと呼ばれる経済政策が進められました。①消費税は8%に上がり、②国会では、特定秘密保護法やいわゆる共謀^{ぼう}罪法などの新しい法律がつけられました。

安倍首相よりも長く首相を務めた過去の首相には、どんな人物がいるでしょうか。戦前には、桂太郎（在職日数2886日）や、日本最初の首相である（あ）（在職日数2720日）が長く首相を務めています。戦前の日本では、大日本帝国憲法が使われていましたが、戦後、③日本国憲法に変わりました。日本国憲法の下でもっとも長く首相を務めたのは、佐藤栄作（在職日数2798日）で、1964年から1972年まで首相を務めました。佐藤内閣の時代は、日本経済が急速に発展していた（い）の時期にあたります。戦後二番目に長く首相を務めたのは、第二次世界大戦後まもなく首相になった吉田茂（在職日数2616日）です。安倍首相は、これに次ぐ在職日数になりました。このように、同じ人物が長く首相の地位にあることを長期政権といいます。

長期政権にはどんな良い面があるでしょうか。政治や経済の問題の中には、1年や2年では解決できないような大きな問題があります。長期政権であれば、このような問題にじっくりと取り組むことができます。また、④世界の国々^{けい}と継続的に話し合いを行うことができ、しっかりと信頼^{らいてい}関係を築くことができます。では、長期政権の悪い面とは何でしょうか。それは「権力の腐敗^{ふかい}」がおりやすいことだと言われます。「権力の腐敗」とは、権力者に気に入られるようにふるまう人が増えて、苦言を言ってくれる人がいなくなってしまう、権力者が正しい方向を見失って、国民に害悪^{おおよ}を及ぼすようになることです。「権力の腐敗」を防ぐしくみとして、どんなものがあるでしょうか。例えば、アメリカ合衆国の大統領の任期は4年で、2回（合計8年）まで務めることはできますが、3回目を務めることはアメリカの憲法で禁止されています。また、国会・⑤内閣・⑥裁判所^{さいばんしょ}に国の役割を分担させて、お互いにチェックさせる（う）のしくみもその例といえるでしょう。わたしたち国民は、この国がどんな方向に向かっているのかをみきわめ、⑦「権力の腐敗」がおきていないかを常に見張っておくことが必要です。

問1 文中の空らん（あ）～（う）に当てはまる語句を、それぞれ漢字で答えなさい。

問2 下線部①について、消費税などの税金によって社会は支えられています。税金について述べた文として正しいものを、次のア～エから1つ選び、記号で答えなさい。

- ア 日本で集められた税金の使い道は、すべて国会で決められる。
- イ ごみの収集や処理にかかる費用には、税金は使われていない。
- ウ 消費税率が8%になった結果、日本は公債に頼らなくて済むようになった。
- エ 日本国憲法には、納税の義務が定められている。

問3 下線部②の国会について述べた文として正しいものを、次のア～エから1つ選び、記号で答えなさい。

- ア 衆議院と貴族院の二つの議院で話し合い、政治の方向を慎重に決めている。
- イ 法律や予算を成立させるには、国会議員全員の賛成が必要である。
- ウ 法律をつくることのできる唯一の機関であり、裁判官を裁く裁判も行う。
- エ 国会で話し合う国会議員は、20歳以上の国民の選挙によって選ばれる。

問4 下線部③について、日本国憲法の三つの原則としてまちがっているものを、次のア～エから1つ選び、記号で答えなさい。

- ア 政治の主人公は国民であるという国民主権
- イ 二度と戦争をしないという平和主義
- ウ 生まれながらの権利を大切にするという基本的人権の尊重
- エ 世界の平和と発展をめざす国際協力

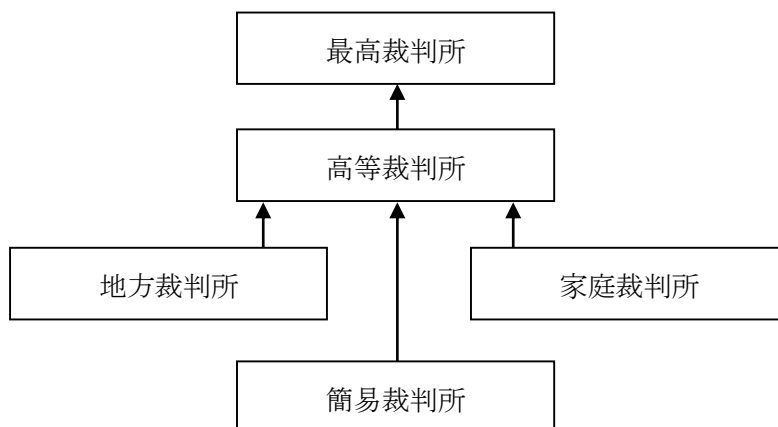
問5 下線部④について、次のア～カは、日本とつながりの深い3つの国（アメリカ合衆国・中華人民共和国・サウジアラビア）のいずれかについて述べた文です。このうち、アメリカ合衆国について述べている文を、2つ選び、記号で答えなさい。

- ア 日本人のプロ野球選手が大リーグで活躍している。
- イ 外国企業が経済特区に進出した1980年代から、経済が大きく成長した。
- ウ 世界有数の石油産出国で、輸出の約90%が石油に関連したものである。
- エ 自動車やコンピューターなど現代を支える多くの技術が、この国で生まれた。
- オ 日本ではあまりなじみのないイスラム教が国の宗教になっている。
- カ 人口増加をおさえるために、1979年からひとりっ子政策を始めた。

問6 下線部⑤について、内閣の働きとしてまちがっているものを、次のア～エから1つ選び、記号で答えなさい。

- ア 最高裁判所の長官を指名する。
- イ 外国と結んだ条約を承認する。
- ウ 衆議院の解散を決める。
- エ 法律案や予算を国会に提出する。

問7 下線部⑥に関する次の図は、日本の裁判のあるしくみを表しています。日本の裁判がこのようなくみをとっている目的は何ですか。簡単に説明しなさい。



問8 下線部⑦について、「権力の腐敗」を見張るものの一つにマスメディアがあります。マスメディアについて述べた文としてまちがっているものを、次のア～エから1つ選び、記号で答えなさい。

- ア インターネット上では、嘘の情報でつくられたニュースが発信され、広がっていることがあるため、注意が必要である。
- イ ラジオは、音声のみの情報しか得られない点が短所だが、入手しやすく、災害時に役立つ、などの長所もある。
- ウ テレビは、国民に対して大きな影響力をもつメディアであるため、正しくない情報が流されることはない。
- エ 新聞は、さまざまな立場の意見に立って書かれており、世論を形成するために欠かせないものである。

問9 本文から読み取れることとして最も適当なものを，次のア～エから1つ選び，記号で答えなさい。

- ア 長く首相の座に居続けることは，国民の高い支持がなければ難しいことであり，それだけで賞賛されるべきものである。
- イ 首相というものは，どのくらい長く務めたかではなく，何をしたかという点で評価されるべきである。
- ウ 長期政権の悪い面として「権力の腐敗」があり，同じ人物が長く権力者の地位に居続けると必ずおこってしまう。
- エ 国民はたえず権力を厳しい目でチェックし，それが暴走しないように見張っておかなくてはならない。