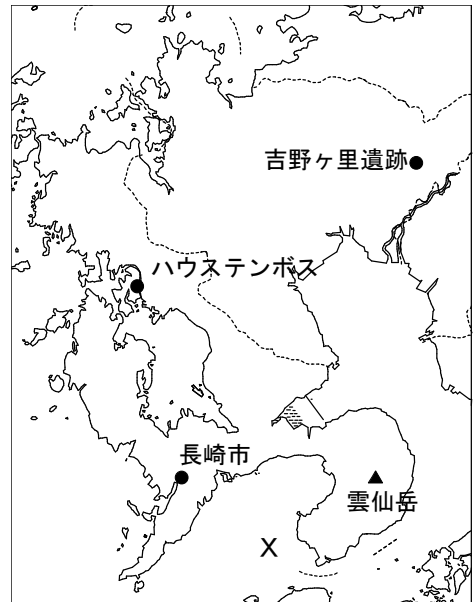


11 メイさんは修学旅行で九州に行きました。次の修学旅行の行程表と地図を見て、あとの問いに答えなさい。

1 日 目	新幹線で① <small>ひめじ</small> 姫路駅を出発。 ↓ ② <small>はかた</small> 博多駅 <small>とうちやく</small> に到着。バスで③ <small>ながさき</small> 長崎市内へ。 ↓ ④ <small>げんぱく</small> 平和公園や原爆資料館を見学。
2 日 目	⑤ <small>おおaura</small> 大浦天主堂やグラバー園を見学。 ↓ ⑥ <small>はしま</small> 端島 <small>ぐんかん</small> (軍艦島)を見学。バスで移動。 ↓ ⑦ <small>うんぜん</small> 雲仙災害資料館などを見学。
3 日 目	⑧Xの海でイルカウォッチング。 ↓ ⑨ハウステンボスで自由行動。
4 日 目	⑩ <small>よしのがりのせき</small> 吉野ヶ里遺跡を見学。バスで博多駅へ。 ↓ 新幹線で博多駅を出発。 ↓ 姫路駅に到着し、解散。



問1 次のア～エの文章は日本の各地方の気候について説明しています。メイさんが訪れた九州の気候について説明した文章として正しいものを、次のア～エから1つ選び、記号で答えなさい。

- ア 1年を通して雨が少ない。冬は長く、寒さが厳しい。
- イ 1年を通して雨が少ない。夏と冬の気温の差が大きい。
- ウ 冬は寒く、雪が多い。夏はむし暑い。
- エ 冬は雨が少ない。梅雨や台風の時期は雨が多く、夏はむし暑い。

問2 次の表は、九州の県で生産量の多い農産物や畜産物^{ちくさん}について、生産量上位5位までの都道府県を示しています。これを見て、あとの(1)・(2)の問いに答えなさい。

A	B	ピーマン
北海道	和歌山県	茨城県 ^{いばらき}
鹿児島県 ^{かごしま}	愛媛県 ^{えひめ}	宮崎県
宮崎県	静岡県	高知県
熊本県 ^{くまもと}	熊本県	鹿児島県
岩手県	長崎県	岩手県

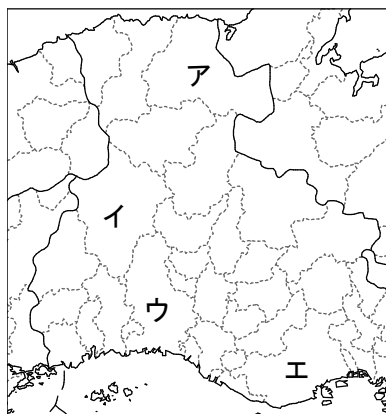
(1) 表中のA・Bに入る農産物・畜産物を、次のア～エからそれぞれ1つずつ選び、記号で答えなさい。

ア みかん イ うめ ウ 豚^{ぶた} エ 肉牛

(2) ピーマンの生産量が上位の県について説明した文としてまちがっているものを、次のア～ウから1つ選び、記号で答えなさい。

- ア 茨城県は、東京などの大消費地に近く、輸送に便利なのでピーマンの生産量が多い。
- イ 岩手県では、夏でも涼しい^{すず}気候を利用してピーマンを栽培し、出荷^{さいばい}している。
- ウ 宮崎県や高知県では、冬でも暖かい気候を生かしてピーマンを栽培し、出荷^{しゅつか}している。

問3 下線部①について、次の地図は姫路市のある兵庫県の地図の一部です。姫路市の位置として正しいものを、地図中のア～エから1つ選び、記号で答えなさい。



問4 下線部②について、この駅がある都道府県はどこですか、漢字で答えなさい。

問5 下線部③について、次の(1)・(2)の問いに答えなさい。

(1) 長崎県は日本で最も島が多い県です。日本の島のうち最も西のはしの島として正しいものを、次のア～エから1つ選び、記号で答えなさい。

ア みなみとりしま 南鳥島 イ よなぐにじま 与那国島 ウ おきのとりしま 沖ノ鳥島 エ えとろふとう 択捉島

(2) 長崎県は水産業がさかんです。長崎県の水産業について説明した文としてまちがっているものを、次のア～ウから1つ選び、記号で答えなさい。

- ア 長崎県の近くには大陸だなが広がっているのので、魚の数や種類が多い。
イ 長崎県では、アジやサバを中心とした^{おきあい}沖合漁業がさかんである。
ウ 長崎県で水あげされた魚は、^{しんせん}新鮮なうちに消費されるため、県外には出荷されない。

問6 下線部④について、次の(1)・(2)の問いに答えなさい。

(1) 長崎に原爆が投下されたのは1945年の何月何日ですか。解答らんに合うように答えなさい。

(2) このときにメイさんが^{さつえい}撮影した写真として正しいものを、次のア～ウから1つ選び、記号で答えなさい。



問7 下線部⑤について、これはある宗教の^{しせつ}施設です。その宗教を答えなさい。

問8 下線部⑥について、次の写真は2015年に世界文化遺産に登録された端島(軍艦島)です。この島は、およそ40年前まであるエネルギー資源がとれたことで栄えていました。そのエネルギー資源を答えなさい。



問9 下線部⑦について、次の(1)・(2)の問いに答えなさい。

(1) この雲仙の災害とは火山によるものです。火山に関する記述としてまちがっているものを、次のア～ウから1つ選び、記号で答えなさい。

- ア 火山が噴火すると、火山灰や火砕流による被害が発生することがある。
- イ 火山がいつ噴火するか、正確に予知することができる。
- ウ 海底で火山が噴火すると、新しい島をつくることがある。

(2) 火山は災害を引き起こす一方で、私たちの暮らしに恵みももたらしてくれます。火山がもたらす恵みにはどのようなものがありますか、考えて答えなさい。

問10 下線部⑧について、イルカウォッチングを行ったXの海はどの海の一部ですか。Xの海として正しいものを、次のア～エから1つ選び、記号で答えなさい。

- ア 日本海 イ 太平洋 ウ 東シナ海 エ 瀬戸内海

問11 下線部⑨について、これはオランダをテーマにしたテーマパークです。オランダが含まれる世界の地域として正しいものを、次のア～エから1つ選びなさい。

- ア アジア イ ヨーロッパ ウ アフリカ エ 北アメリカ

問12 下線部⑩について、この遺跡がある県の県庁所在地は何市ですか。漢字で答えなさい。

問13 この修学旅行でメイさんはいくつの県を通過しましたか。通過した県の数を答えなさい。ただし、兵庫県も1つと数えます。

2 姫路の歴史についての次の文章を読み、あとの問いに答えなさい。

今から約1万年前の縄文時代、姫路の地にはすでに人が住んでいました。弥生時代になると人口が増加し、姫路市域に見られる弥生時代の遺跡は170カ所にのぼります。①中には、標高200メートルの高地に営まれた集落もあります。②卑弥呼の墓とされる箸墓古墳が築かれたところ、姫路でも瓢塚古墳とよばれる前方後円墳が築かれており、3世紀なかばには、大和地域を中心とした広い政治連合の一部であったことを示しています。

姫路が播磨の中心となったのは、③大化の改新のあとでした。大化の改新ののち、律令によって地方の政治が整えられ、賢明女子学院の周辺である姫路市本町に播磨の国府が置かれたとされています。8世紀には④天皇の命令で国分寺も建てられ、姫路の地はさらに栄えていきました。黒田官兵衛ゆかりの広峯神社が建てられたのもこのころです。

平安時代の中ごろには、書写山円教寺が開かれました。円教寺を開いた性空は優れた僧で、⑤藤原道長のむすめの彰子も書写山を訪れたとされています。性空が亡くなった後も、遠く都の貴族や武士から厚い信仰を受け、⑥平清盛と対立した後白河法皇や、⑦幕府を倒そうとした後醍醐天皇が立ち寄ったことでも知られています。そして世界遺産にも登録されている姫路城が築城されたのは⑧室町時代末でした。16世紀には、城主となった黒田官兵衛が豊臣秀吉に城を献上し、秀吉が天守閣を築きました。その後、⑨江戸時代に姫路にきた池田輝政が現在の姫路城を築きあげました。姫路城は要所にある城として、譜代大名たちが代々城主をつとめました。そのため、姫路では⑩明治維新のときには新政府につくのか、江戸幕府につくのか意見が割れ、分裂の中で新しい時代をむかえました。

明治時代になって、⑪近代産業を育てる明治政府の方針を受け、姫路でも生野銀山の銀を運ぶ「銀の馬車道」の整備や姫路木綿の工場建設、姫路の皮革産業の紹介などに力が注がれました。また、陸軍の師団を受け入れ、軍都としても発展していきました。しかし、軍都となった姫路は第二次世界大戦のとき、⑫1945年の6月22日と7月3日の2度、空襲を受けました。戦後は、焼け野原となった姫路市街地の再建を中心に姫路の整備がおこなわれ、新しい教育も始まりました。陸軍の師団司令部があった場所には、新しい教育を目指して賢明女子学院が建てられたのです。その後、⑬1960年代には高度経済成長期をむかえ、播磨臨海工業地域も形成されました。

2015年は平成の大修理を終えた美しい姫路城がお目見えしました。また、姫路が空襲で焼け野原になってからちょうど70年をむかえました。新たな節目をむかえた姫路をどのように発展させていくか、一人一人が考えていかねばなりません。

問1 下線部①について、米作りには適していないにもかかわらず、高地に集落がつけられました。弥生時代には同じ目的でまわりを堀^{ほり}やさくで囲んだ集落もつけられました。これらの集落がつけられた理由を簡単に説明しなさい。

問2 下線部②について、卑弥呼が治めていたクニは何といいますか。漢字で答えなさい。

問3 下線部③について、次のア～エの文章は、大化の改新までに起こった出来事です。これを古い順に並び変えたとき、3番目のできごとはどれですか。記号で答えなさい。

- ア ワカタケル大王^{おおきみ}が中国に手紙を送った。
- イ 遣唐使^{けんとうし}の派遣が始まった。
- ウ 仏教が日本に伝わった。
- エ 小野妹子^{おののいもこ}が遣隋使^{けんずいし}として中国にわたった。

問4 下線部④について、この天皇はだれですか。漢字で答えなさい。

問5 下線部⑤について、大化の改新でも活躍^{かつやく}した、藤原氏の祖先である人物はだれですか。漢字で答えなさい。

問6 下線部⑥に関連して、次の戦いのうち、平氏と源氏の戦いとしてまちがっているものを、次のア～エから1つ選び、記号で答えなさい。

- ア 一ノ谷の戦い
- イ 壇ノ浦^{だんのうら}の戦い
- ウ 屋島の戦い
- エ 桶狭間^{おけはざま}の戦い

問7 下線部⑦について、後醍醐天皇が倒そうとしたのは何幕府ですか。漢字で答えなさい。

問8 下線部⑧に関連して、次の1・2の文とA・Bの写真の中で室町幕府の3代将軍である足利義満あしかがよしみつに関係するものの組み合わせとして正しいものを、あとのア～エから1つ選び、記号で答えなさい。

- 1 将軍のあとつぎ争いなどさまざまな対立がからんで京都で応仁おうにんの乱が起こった。
- 2 中国との国交を開いて貿易をはじめた。




ア 1とA イ 1とB ウ 2とA エ 2とB

問9 下線部⑨について、江戸時代に関係した人物とその人物に関係することがらについて述べた文としてまちがっているものを、次のア～エから1つ選び、記号で答えなさい。

- ア 伊能忠敬いのうただたかは50才を過ぎてから天文学や測量術を学び、幕府の命令で全国を測量して歩き、正確な日本地図をつくらうとした。
- イ 土佐藩を脱藩した坂本龍馬さかもとりょうまは、対立していた薩摩藩さつまはんと長州藩の間に同盟を結ばせ、これは江戸幕府滅亡に大きな影響えいきょうを与えた。
- ウ 医者であった杉田玄白すぎたげんぱくと前野良沢まえのりょうたくはオランダ語で書かれた人体解剖書かいぼうをほん訳し、『解体新書』を出版した。
- エ 軍艦4 せきをひきいて浦賀うらがにやってきたペリーは強い態度で江戸幕府に開国をせまり、下関条約を結ばせた。

問10 下線部⑩について、右の図は1867年10月、江戸幕府15代将軍徳川慶喜とくがわよしのぶが京都の二条城に大名を集めたときのようすです。このとき、将軍から大名に告げられた内容は何ですか。その内容を簡単に説明しなさい。



問 11 下線部⑪について、次の(1)・(2)の問いに答えなさい。

(1) 近代的な工業をはじめめるため、外国人指導のもとに、製糸、紡績^{ぼうせき}などで官営工場を開く政策を何といいますか。次のア～エから1つ選び、記号で答えなさい。

ア 所得倍増 イ 殖産興業^{しよくさん} ウ 地租改正^{ちそ} エ 財閥解体^{ざいぼつ}

(2) 明治の近代産業について述べた文としてまちがっているものを、次のア～エから1つ選び、記号で答えなさい。

ア 大久保利通^{おおくぼとしみち}や木戸孝允^{きどたかよし}らの使節団とともにアメリカにわたった留学生の一人に、当時満6才だった津田梅子がいました。彼女は帰国後、日本に女子教育を広めるため、女子英学塾^{じゅく}をつくりました。

イ 電報や郵便^{ゆうびん}の制度が整い、東京や大阪、横浜などの都市部や貿易港のまちではガス灯がともり、人々のくらしに変化がおとずれました。ラジオ放送も開始され、大相撲^{おおずもう}の実況中継^{じっきょうちゅうけい}などが人気を呼びました。

ウ 武士にかわり、訓練された近代的な軍隊を持つために、徴兵令^{ちようへいれい}を出しました。平等な世の中になって、みな同じ国民として国を守るため、20才になった男子は3年間、軍隊に入ることを義務づけられました。

エ 政府は、模範^{もはん}的な製糸場をつくる方針を定めて、フランスから技師を招きました。1872年に完成した群馬^{ぐんま}県の富岡製糸場^{いとく}は糸繰りの機械300台が設置された大きな工場で、全国から女子の労働者を募集しました。

問 12 下線部⑫について、次のア～エの中で、1945年のできごとを1つ選び、記号で答えなさい。

- ア 日本国憲法が公布された。
- イ 朝鮮戦争^{ちようせん}が起こった。
- ウ アメリカ軍が沖縄島^{おきなわじま}へ上陸した。
- エ サンフランシスコ講和会議が開かれた。

問 13 下線部⑬について、次の（１）・（２）の問いに答えなさい。

（１）次のア～エの中で、1960年代のできごとを1つ選び、記号で答えなさい。

- ア 国民総生産（^{ジーエヌピー}GNP）が資本主義国の中で世界第2位になった。
- イ 元号が昭和から平成に変わった。
- ウ 国際連合への加盟が認められた。
- エ 中国と日中平和友好条約を結んだ。

（２）1964年にオリンピックが開かれた都市はどこですか。漢字で答えなさい。

このページに問題はありません。

3 次の文章を読んで、あとの問いに答えなさい。

2015年は、戦争が終結してちょうど70年にあたる年で、①8月には内閣総理大臣が戦後70年談話を発表しました。この節目の年に、一つの改革が行われました。2015年6月、選挙権年齢を20才から18才に引き下げる②法律が成立したのです。これにより、2016年の夏に予定されている参議院議員選挙では、高校生の有権者も生まれることとなります。現在、世界の約190の国と地域のうち、その9割以上で18才までに選挙権が与えられています。世界にはさらなる選挙権年齢の引き下げを議論している国・地域もあり、③オーストリアなどでは16才から選挙権を認めています。

日本では急速に④少子高齢化が進んでおり、若い世代は、⑤国民が安心して暮らせる社会を維持していくための費用を背負っていかなくてはなりません。また、⑥近隣諸国との関係や、⑦日本の安全をめぐるさまざまな意見の対立など、日本は多くの問題に直面しています。世界でも、紛争による難民の増加、国際的なテロ、⑧食糧問題、飢えや病気で苦しむ子どもなど今もたくさん問題がおきています。若い世代は世界の人々と手をつなぎ、これらの問題に取り組んでいかなくてはなりません。⑨今回の選挙権年齢引き下げは、将来を担う若い世代の声が政治に反映されるようになるという大きな意味を持っています。一方で、若い世代の投票率がさらに低くなるだけではないかという心配もあります。近年の国会議員の選挙では若い世代の投票率が低く、政治への関心の低さを示していました。若い世代が投票に参加する意味と責任を自覚し、⑩政治への関心を持てるよう、政党・政府・学校・家庭それぞれでの取り組みが求められています。

問1 下線部①について、次の(1)・(2)の問いに答えなさい。

(1) このときの内閣総理大臣が所属していた政党を、次のア～エから1つ選び、記号で答えなさい。

ア 民主党 イ 自由民主党 ウ 公明党 エ 日本共産党

(2) 内閣の下でさまざまな仕事を受けもつ省や庁について説明した文としてまちがっているものを、次のア～エから1つ選び、記号で答えなさい。

ア 文部科学省は、教育や科学・文化・スポーツなどに関する仕事を行っている。
イ 厚生労働省は、国民の健康や労働などに関する仕事を行っている。
ウ 法務省は、国の行政組織や地方自治・通信などに関する仕事を行っている。
エ 金融庁は、銀行を監督するなどの金融制度に関する仕事を行っている。

問2 下線部②について、法律を定める機関は何ですか。漢字で答えなさい。

問3 下線部③に関連して、オーストリアなどヨーロッパ連合（E U）^{イ-ユー}に加盟している国の多くで使われているお金は何ですか。お金の単位を答えなさい。

問4 下線部④について、次の表は姫路市の人口の移りかわりを示したものです。表から読み取れることを述べた文として正しいものを、あとのア～エから1つ選び、記号で答えなさい。

年齢	1999年	2004年	2009年	2014年
0～20才	111,466	107,272	115,023	110,983
21～64才	290,934	286,238	306,740	292,504
65才以上	71,583	84,170	112,286	129,645
計	473,983	477,680	534,049	533,132

 (人)

ア 65才以上の人口が増え続けているが、姫路市全体の人口も増え続けている。

イ 姫路市では20才以下の若者が増え続けているので、姫路市では少子高齢化の問題は起こっていない。




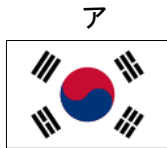
ウ 2004年から2009年のあいだに20才以下の人口が大幅^{おおはば}に増えているのは、姫路市の子育て支援^{しえん}政策が実を結んだ結果、ベビーブームが起こったからである。

エ 姫路市では、2009年から2014年にかけて、65才以上の人口の全体に占める割合が増加している。

問5 下線部⑤について、建物の段差など、高齢者や障がいがある人たちにとって安全な生活の妨^{さまた}げになるものを取りのぞくことを何といいますか。カタカナで答えなさい。

問6 下線部⑥について、次の各文は、ある近隣の国について述べています。これをヒントにしてその国の国旗を、あとのア～エから1つ選び、記号で答えなさい。

2002年 サッカーワールドカップを日本と共同で開催する。
 2013年 この国で初めての女性大統領が誕生する。
 2015年 日本との国交を正常化してちょうど50年となる。



問7 下線部⑦に関連して、日本国憲法第9条を、次のア～エから1つ選び、記号で答えなさい。

- ア 「・・・国権の発動たる戦争と武力による威嚇又は武力の行使は、国際紛争を解決する手段としては、永久にこれを放棄する。」
- イ 「・・・核兵器をつくらず、持たず、持ちこませずの非核三原則を将来とも遵守し、あらゆる国のあらゆる核兵器の廃絶を全世界に強く訴え、・・・」
- ウ 「・・・世界各地に敷設された対人地雷を除去するという目標に取り組み、及びこれらの対人地雷の廃棄を確保することに効果的な・・・」
- エ 「・・・かつ、お互いの関係において、国家の政策の手段としての戦争を放棄することを、それぞれの人民の名において厳粛に宣言する。」

問8 下線部⑧について、次の表は、アメリカ、イギリス、ドイツ、日本の食料自給率（カロリーベース）をまとめたものです。日本を示しているものを、表中のア～エから1つ選び、記号で答えなさい。

	1970年	1980年	1990年	2000年	2010年
ア	112	151	129	125	135
イ	68	76	93	96	93
ウ	46	65	75	74	69
エ	60	53	48	40	39

(%)

問9 下線部⑨に関連して、選挙権年齢は18才に引き下げられることになりましたが、裁判員に選ばれる年齢は、当分の間変わらないとされています。裁判員制度について述べた文として**まちがっているもの**を、次のア～オから2つ選び、記号で答えなさい。

- ア 国民の感覚や視点を裁判に生かすことを目的としている。
- イ 1つ1つの裁判を、今までより時間をかけてじっくり行うことを目的としている。
- ウ くじで選ばれた裁判員が、軽い犯罪の裁判を裁判官に代わって行う制度である。
- エ 裁判員は、うたえられた人が有罪か無罪か、有罪の場合はどのくらいの**けい**にするのかを、裁判官といっしょに判断する。
- オ 実際に裁判員になった人の中には、死刑などの重い**けいばつ**を決めたことに対して精神的な苦痛を感じている人もいる。

問10 下線部⑩について、若い世代の政治への関心を高める手段として**適当でないもの**を、次のア～エから1つ選び、記号で答えなさい。

- ア 政党は、実行するつもりがなくても、選挙のときには若者に支持される政策を約束する。
- イ 政府は、インターネットを使った選挙運動や投票ができるようにする。
- ウ 学校では、生徒会を中心に**もぎ**模擬選挙を行い、投票の体験を試みる。
- エ 家庭では、親子でニュースや新聞を見て、その内容について話し合う。

問11 本文の内容と合っているものを、次のア～エから1つ選び、記号で答えなさい。

- ア 選挙権年齢を引き下げたのだから、飲酒や**きつえん**喫煙をしてよい年齢も18才に引き上げるべきである。
- イ 日本の若者は他人の意見に流されやすいという面が強いため、若い世代に選挙権を認めるのは不安である。
- ウ これまでの日本の選挙権年齢は国際標準と比べて高かったが、今回の選挙権年齢引き下げにより国際標準に追いついたといえる。
- エ 日本の若い世代の人たちは、安心して暮らせる社会を維持していくための費用を負担することに、強い不満を持っている。