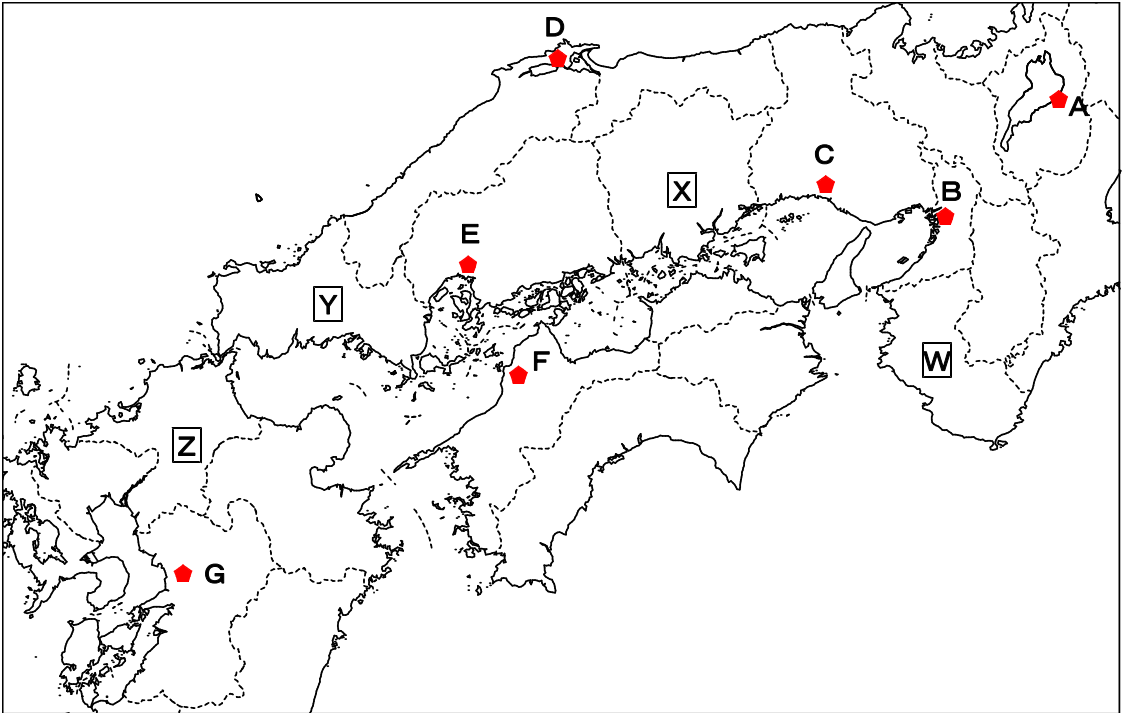


- 1 ユウキさん、マコトさん、マサルさんが、次の地図中のA～Gの城について話しています。地図と3人の会話を聞いて、あとの問いに答えなさい。



ユウキ：私は **あ** のお城が一番好きだな。まっ白な天守閣がとてもきれいだし、①江戸時代に建てられたたくさんのやぐらや迷路のような通路が残っていて、②日本で最初の世界遺産にも登録されたんだよ。

マコト：ぼくも **あ** のお城は好きだけど二番目かな。一番好きなのは **い** のお城。ぼくの地元のお城なんだ。原子爆弾で倒壊してしまって戦後に再建されたんだけど、原爆ドームと並んで、③平和への思いや願いを感じることができる場所としても大切な存在なんだ。

ユウキ：どのお城にも物語があるよね。私は **G** のお城が二番目に好き。④明治時代の内戦で主な部分は焼けてしまったり、最近も⑤地震で大きな被害を受けたりしたけど、今も修復が進められていて、地元の人たちに大切にされているなって感じるんだ。マサルさんはどのお城が好き？

マサル：私も **あ** のお城は好きですよ。でもそれより、**う** や **F** のお城が好きです。
う のお城からは、⑥日本で一番大きな湖を見渡すことができずばらしい
景色です。**F** のお城も、お城を中心に発展してきた⑦城下町やその町を舞台に
した⑧文学作品もたくさんあって、とても魅力的です。

ユウキ：そうだね、そのお城とともに地元の人たちが作りあげてきた城下町のまち並
みや雰囲気もお城の魅力だよ。私は **D** の落ち着いた雰囲気の城下町も好きだな。

マコト：昔ながらのまち並みはもちろんすばらしいけど、高層ビルを背景に建つ **B** のお
城の姿も、かえて歴史を感じられる気がしてぼくは好きだな。

問1 文章中の **あ** ～ **う** にあてはまる城を、地図中の **A** ～ **G** のうちからそれぞれ
選び、記号で答えなさい。

問2 下線部①に関する次の(1)～(3)の問いに答えなさい。

(1) 江戸時代に関する記述として最も適当なものを、次の **A** ～ **E** のうちから 1 つ
選び、記号で答えなさい。

A 天下を統一した織田信長は商工業を自由化し、キリスト教も認めた。信長を引
きついだ豊臣秀吉は刀狩りを行って武士と町人の身分をはっきりとさせた。

I 徳川家康は御成敗式目を定めて全国の大名に 1 年おきに江戸に住むことを命じ
た。また、日本人が外国へ行くことや外国との貿易を制限した。

ウ 江戸は「将軍のおひざもと」と呼ばれ、人口 100 万人をこえる大都市であった。
また、全国から多くの産物があつまり「天下の台所」とも呼ばれた。

E 沖縄にあった琉球王国から江戸に使節が送られた。また、北海道のアイヌ民
族とも交易を行ったが、不公正な交易であったためアイヌの人々が蜂起した。

(2) 江戸時代の文化に関する記述として最も適当なものを、次の **A** ～ **E** のうちか
ら 1 つ選び、記号で答えなさい。

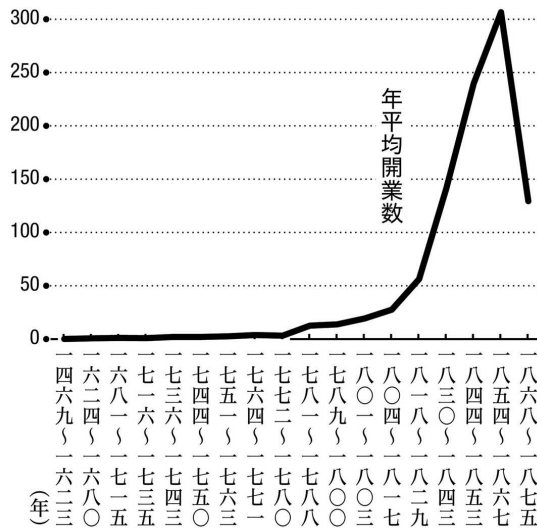
A 書院造りが広まり、茶の湯や生け花が、貴族や武士の間で楽しまれた。

I 町人文化が栄え、歌舞伎や人形浄瑠璃、浮世絵が人気になった。

ウ 村で田植えのときに行う田楽や面白いおどりをする猿楽が、能や狂言になった。

E 伊能忠敬はオランダ語で書かれた人体解ぼう書を日本語にほん訳した。

- (3) 江戸時代には百姓や町人の子どもたちに「読み・書き・そろばん」を教えるために僧や庄屋、武士などが寺子屋という塾を開きました。次のグラフは寺子屋の年平均開業数を表しています。このグラフから読み取れることや考えられることとして**適当でないもの**を、下のア～エのうちから1つ選び、記号で答えなさい。



(『国史大辞典』より作成)

- ア 年平均開業数は、18世紀まではあまり大きな変化はないが、19世紀に急激に増加している。
- イ 寺子屋の開業数が増加すると、読み書きのできる人の割合も高くなると考えられる。
- ウ 1868～1875年の開業数は、1854～1867年の開業数と比べて200以上少ない。
- エ 1868～1875年の年平均開業数が減っている理由の1つに、明治時代になって小学校がつけられたことが考えられる。

問3 下線部②について、**あ**の城と同時に世界遺産に登録されたのが法隆寺です。法隆寺を建てた聖徳太子に関する記述として**適当でないもの**を、次のア～エのうちから1つ選び、記号で答えなさい。

- ア 国を治めるための法律である大宝律令をつくった。
- イ 役人の心得を示すため十七条の憲法をつくった。
- ウ 家からではなく本人の能力で役人に取り立てるため冠位十二階を定めた。
- エ 小野妹子を使者として中国の隋に送った。

問4 下線部③に関する記述として**適当でないもの**を、次のア～エのうちから1つ選び、記号で答えなさい。

ア 日本は外国との争いを絶対に戦争によって解決しないことを憲法の第9条で定めている。

イ 原子爆弾で多くの人々が犠牲になった広島や長崎では二度と核兵器が使用されないように、毎年平和を願う式典を行っている。

ウ 唯一の被爆国である日本のはたらきかけによって核兵器の廃棄が進んでおり、核兵器のない世界が実現しつつある。

エ SDGs（持続可能な開発目標）にも「平和と公正をすべての人に」という、平和な社会をめざす目標がかかげられている。

問5 下線部④に関する記述として最も**適当なもの**を、次のア～エのうちから1つ選び、記号で答えなさい。

ア 大名が治めていた領地を天皇に返させ、藩を廃止して県を置いた。県知事は住民の選挙で決められた。

イ 江戸時代の身分制が廃止され、すべての人は平民となった。差別や不平等のない社会が実現した。

ウ 外国から技術者を招き、国営の工場をつくって産業を盛んにした。各地を結ぶ鉄道や高速道路も建設された。

エ 朝鮮における利益をめぐって中国の清と戦った。勝った日本は賠償金や領土を獲得したが、今度はロシアと対立するようになった。

問6 下線部⑤に関する次の（1）～（3）の問いに答えなさい。

（1） 2024年の8月に南海トラフ巨大地震の注意情報が出されました。地図中のW～Zの県のうち、南海トラフ巨大地震が発生した場合、最も大きな被害が出ると考えられるのはどの県ですか、記号で答えなさい。

（2） （1）でなぜそう考えたのか、その理由を説明しなさい。

(3) 防災に対する考え方として**適当でないもの**を、次のア～エのうちから 1 つ選び、記号で答えなさい。

ア いざというとき自分で考えて行動できるように、地域や学校の防災訓練に参加しておくことは大切である。

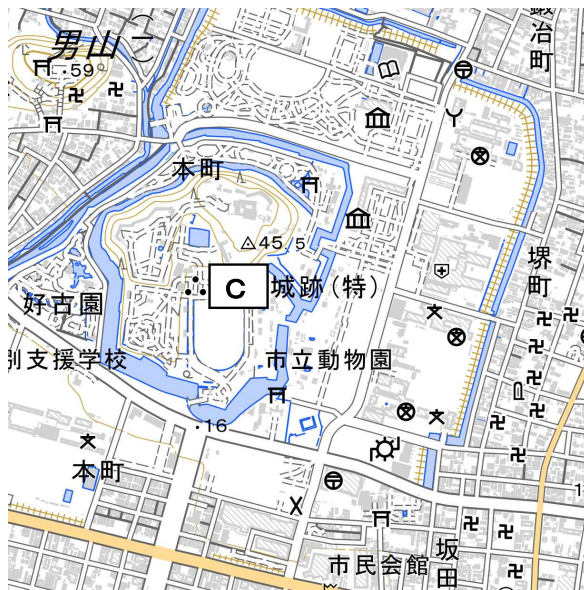
イ ハザードマップに示された被害想定区域をこえる災害は起こらないので、ハザードマップで安全とされる場所へひなんすれば安心である。

ウ 防災リュックを用意することも大切だが、いざというとき近所の人たちで助け合えるよう、^{ふだん}普段からなかよくしておくことが大切である。

エ 一人ひとりの命を災害から守り、安心して暮らせるまちづくりをすることも、SDGs の目標の 1 つである。

問 7 下線部⑥について、この湖の名前を答えなさい。

問 8 下線部⑦について、次の地図は C のお城の城下町です。この地図から読み取れることとして**まちがっているもの**を、下のア～エのうちから 1 つ選び、記号で答えなさい。



ア C城の近くに博物館や図書館がある。

イ C城の北西に男山がある。

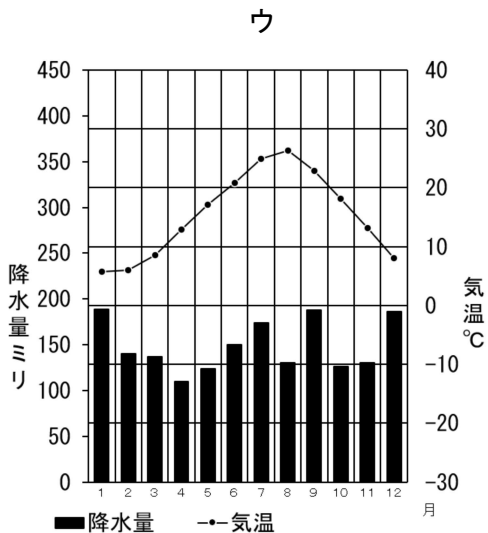
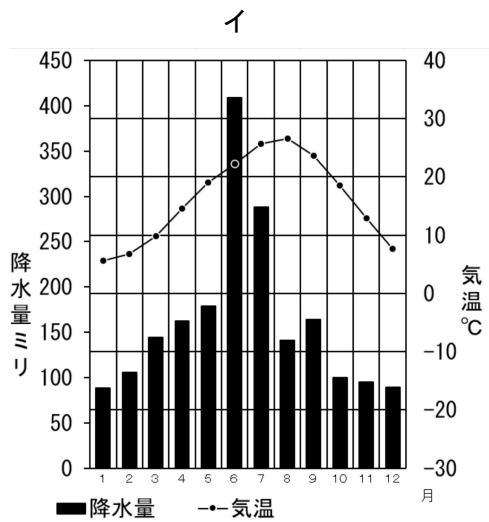
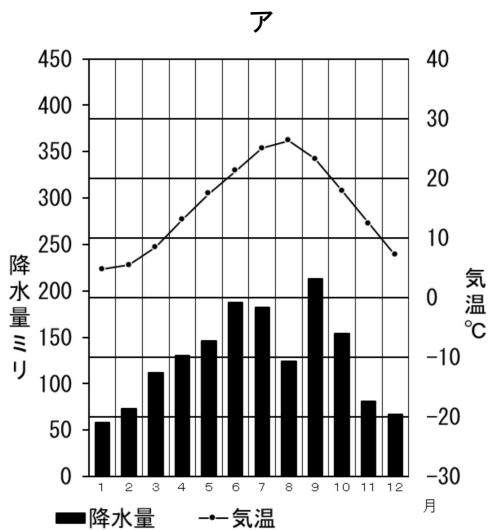
ウ C城の東側には学校や病院、消防署がある。

エ この地図の範囲ではお寺より神社の方が多い。










問9 下線部⑧について、平安時代に書かれ、現在多くの国々で読まれている『源氏物語』の作者を、漢字で答えなさい。

問10 DとFの城はそれぞれの県の県庁所在地にあります。DとFの城がある都市名を、それぞれ漢字で答えなさい。

問11 次の雨温図は地図中のC・D・Gの城がある都市のもので、Cの城がある都市の雨温図を、ア～ウのうちから1つ選び、記号で答えなさい。



問12 次のア～ウは，ユウキさん，マコトさん，マサルさんの好きな城ベスト3です。
マコトさんの好きな城ベスト3をア～ウのうちから 1 つ選び，記号で答えなさい。

	1 位	2 位	3 位
ア			
イ			
ウ			

2 川とその歴史に関する次の文章を読み、下の地図を見て、あとの問いに答えなさい。

2024年の①パリオリンピック開会式は、史上初めて川が舞台となり、大きな話題となりました。このパリ市内を流れる（②）の両岸には、ノートルダム大聖堂など多くの歴史的建造物や③美術館が建ち並び、歴史の舞台にもなってきました。

古代から人間にとって川は欠かせないものでした。日本でも文明は川の近くで発展してきました。佐賀県にある弥生時代の（④）などの遺跡は、⑤川沿いの集落の重要性を示しています。平安京にもその東側に賀茂川（鴨川）が流れ、武士の都である鎌倉にも滑川が流れるなど、都市の発展にとって川は重要な役割を果たしました。一方で、⑥水不足や水害も古代の人々にとっては大きな問題でした。

江戸時代になると、商業活動が盛んになり、⑦川の水運が陸や海の交通網と結びついて物資の輸送に重要な役割を果たしました。また、川自体が信こうの対象になったり、⑧文学作品にも数多く取り上げられています。

近代に入り、大量の⑨工業用水が必要となったため、川の治水や水資源管理がさらに重要となり、堤防やダム建設が進められました。しかし、これらの工事により自然環境が変わり、川の生態系や地元の人々の生活にも影響をあたえました。⑩現在も川の保全や再生、持続可能な利用が課題となっています。



問1 下線部①に関連する次の(1)・(2)の問いに答えなさい。

(1) オリンピックが行われたパリはどここの国の都市ですか、国名を答えなさい。

(2) 日本は(1)の国からワインを輸入していますが、近年では日本国内でのワインの生産も盛んです。次の表は、ワインの原料であるぶどうの他に、りんご、みかん、ももの生産量について、上位の5県とその全国にしめる割合(%)を示しています。a～dの表と果実の組み合わせとして正しいものを、下のア～エのうちから1つ選び、記号で答えなさい。

山梨	25.1
長野	17.8
岡山	9.0
山形	8.6
福岡	4.4

(%)

青森	59.6
長野	18.0
岩手	6.5
山形	5.6
福島	3.2

(%)

山梨	30.5
福島	23.7
長野	10.3
山形	8.4
和歌山	6.9

(%)

和歌山	22.4
愛媛	16.0
静岡	15.1
熊本	11.0
長崎	5.9

(%)

(日本国勢図会 2024/25 より)

- ア a-みかん b-りんご c-ぶどう d-もも
 イ a-りんご b-ぶどう c-もも d-みかん
 ウ a-もも b-みかん c-ぶどう d-りんご
 エ a-ぶどう b-りんご c-もも d-みかん

問2 (②)に当てはまる語句として正しいものを、次のア～エのうちから1つ選び、記号で答えなさい。

- ア アマゾン川 イ セーヌ川 ウ ナイル川 エ ミシシッピ川

問3 下線部③に関連して、パリのロダン美術館には、日本の浮世絵が背景にたくさん描かれた、ゴッホ作の『タンギー爺さん』の肖像画があります。日本の浮世絵はヨーロッパの美術にも大きな影響を与えました。右の作品の作者として正しいものを、次のア～エのうちから1つ選び、記号で答えなさい。



- ア 葛飾北斎 イ 雪舟 ウ 歌川広重 エ 近松門左衛門

問4 (④) に当てはまる語として正しいものを、次のア～エのうちから 1 つ選び、記号で答えなさい。

ア 吉野ヶ里遺跡 イ 三内丸山遺跡 ウ 登呂遺跡 エ 岩宿遺跡

問5 下線部⑤に関連して、弥生時代の集落にとって川が重要であった理由として**適当でないもの**を、次のア～エのうちから 1 つ選び、記号で答えなさい。

- ア 上流から豊かな養分をふくんだ土が運ばれ、農作物が育ちやすくなる。
- イ 川の水をくみ取って水分を蒸発させ、料理に必要な塩を得ることができる。
- ウ 集落に敵や動物が侵入するのを防ぐ、堀の役割をはたすこともある。
- エ 川に網をしかけることで、魚をとることができる。

問6 下線部⑥に関連して、洪水の多い暴れ川には「坂東太郎」「筑紫次郎」「四国三郎」などの呼び名がつけられているものがあります。このうち、筑紫平野を流れ、「筑紫次郎」の呼び名のある川を地図中の A～F のうちから 1 つ選び、記号で答えなさい。

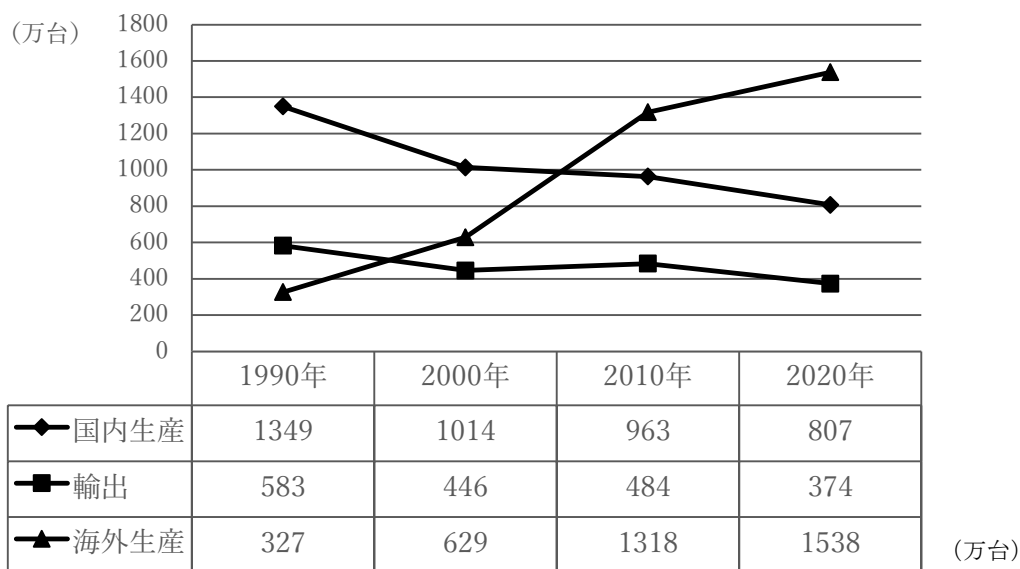
問7 下線部⑦に関連して、各地の特産物と江戸時代の交通について述べた文として**まちがっているもの**を、次のア～エのうちから 1 つ選び、記号で答えなさい。

- ア 静岡でつくられたお茶は、荷車にのせられ東海道を通過して、江戸まで運ばれた。
- イ 京都でつくられた西陣織は、淀川を下る船にのせられて、大坂まで運ばれた。
- ウ 龍野でつくられたしょう油は、兵庫の港を経由していったん大坂まで運ばれ、別の船に積みかえられて江戸まで運ばれた。
- エ 蝦夷地(北海道)の昆布は、東まわり航路を通る船にのせられて日本海を経由し、江戸に運ばれた。

問8 下線部⑧に関連して、江戸時代の俳人である松尾芭蕉は、「五月雨を あつめて早し最上川」という句をよみました。この庄内平野を流れる最上川を、地図中のA～Fのうちから1つ選び、記号で答えなさい。

問9 下線部⑨に関連して、工業に関する(1)～(3)の問いに答えなさい。

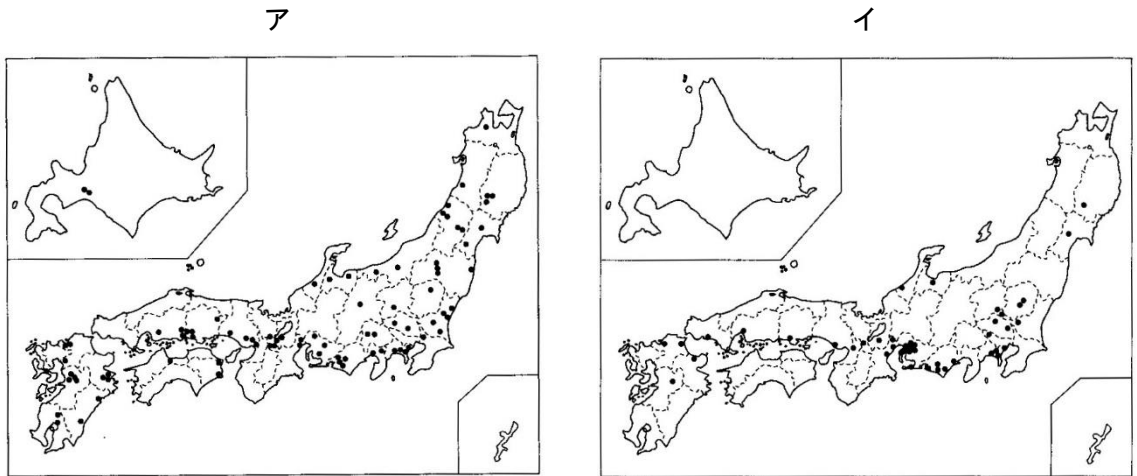
(1) 次のグラフは、日本の自動車会社の、国内生産台数、輸出台数、海外生産台数の変化を示しています。このグラフから読み取れることとしてまちがっているものを、下のア～エのうちから1つ選び、記号で答えなさい。



(日本国勢図会 2024/25 より)

- ア 日本国内で生産される自動車の台数は、1990年以降減少し続けている。
- イ 2020年に海外で生産された自動車の台数は、1990年と比べると4倍以上になっている。
- ウ 日本国内で生産された自動車のうち、海外に輸出された台数の割合は、常に50%をこえている。
- エ 日本国内で生産された自動車と、海外で生産された自動車の合計数は、2000年以降増加し続けている。

- (2) 次の地図は、日本国内の主な自動車工場と半導体工場の分布を示したものです。
自動車工場の分布を示したものを、ア・イのうちから1つ選び、記号で答えなさい。



(日本国勢図会 2024/25 より)

- (3) 日本の自動車会社が、海外で生産を行うのはなぜですか。その理由を説明しなさい。

問10 下線部⑩に関連して、川の保全や再生には、川が流れ出るもとである水源地を守ることも重要です。地図中のDの川の水源地となっている山地・山脈として正しいものを、次のア～エのうちから1つ選び、記号で答えなさい。

- ア 日高山脈 イ おうう奥羽山脈 ウ えちご越後山脈 エ きい紀伊山地

3 めいさん・けんさん・先生の会話文を読んで、あとの問いに答えなさい。

めい：2024年には4年に一度の①アメリカ大統領選挙がありましたね。

先生：そうだね。アメリカは世界に大きな影響を与える国であるため、アメリカ大統領選挙には世界中の人々が注目していたね。

けん：アメリカ大統領は、アメリカの国民によって直接選ばれるんですよね？

先生：厳密には、大統領本人ではなくて大統領選挙人という人に投票するけど、有権者の多数決に近い形で大統領が選ばれるしくみにはなっているね。

めい：日本の②内閣総理大臣はどのように選ばれるのですか？

先生：日本では、③国会で、国会議員の中から内閣総理大臣が選ばれるよ。このしくみは④日本国憲法に定められているんだ。

めい：アメリカの大統領と日本の内閣総理大臣はどちらもその国の⑤行政の長ですよ。その国の安全、国民の⑥権利や⑦生活を守る責任を負っている大変な役職だけど、選ばれ方は違うんですね。けんはどっちのしくみがいいと思う？

けん：そうだなあ。自分では誰に投票したらいいか分からないから、国会で選ぶ今の日本のしくみでいいと思うよ。

めい：私は自分で直接選べるしくみの方が、自分の意見が政治に反映されたと強く感じるから、アメリカ大統領の選び方がよさそうに思えるなあ。先生、日本にアメリカのような大統領のしくみを導入することはできるんですか？

先生：日本の政治のしくみについて規定している日本国憲法の内容を改正すれば可能だけど、しくみを大きく変えることについては反対も多い。そこで、内閣総理大臣を国民の投票によって選ぶ制度が議論されたこともあるよ。

けん：憲法の内容を改正するにはどうすればいいんですか？

先生：国会で国会議員の一定数の賛成があれば、日本国憲法の改正を正式に提案できるんだ。その後、国民投票をおこなって⑧国民の意見を聞くことになっているよ。ただし日本国憲法ができてから70年以上経つけど、今まで一度も改正されたことはないんだ。

めい：憲法というものはあまり変えるものではないんですね。

先生：いや、海外では憲法改正は珍しいことではないよ。憲法の文章の量に違いがあるため単純な比較はできないけど、戦後の憲法改正の回数を見てみると、アメリカや韓国は5回以上、フランスは20回以上、ドイツは50回以上も改正しているよ。

けん：そんなに改正しているんですか？憲法についての印象が変わるなあ。

先生：⑨日本と世界の状況は大きく変化している。それをしっかり見きわめ、議論を積みかさねていくことが大切だよ。この国の政治に最終的な責任を負うのは、主権者である私たち国民だからね。

問1 下線部①について、第二次世界大戦でアメリカ軍が上陸し、激しい戦場になった地が沖縄県です。沖縄県について次の(1)・(2)の問いに答えなさい。

(1) 沖縄県についての次の文A・Bを読み、それぞれの文の正誤の正しい組み合わせを、下のア～エのうちから1つ選び記号で答えなさい。

A 1年を通じて気温が高く、その気候を利用してさとうきびやマンゴーが盛んに生産されている。

B 沖縄が日本に返還された後もアメリカ軍の基地が置かれており、日本にあるアメリカ軍基地のすべてが沖縄県にある。

ア	A－正	B－正	イ	A－正	B－誤
ウ	A－誤	B－正	エ	A－誤	B－誤

(2) 沖縄県には、日本の領土の西の端の島の島が含まれます。日本の領土の西の端と東の端の島の正しい組み合わせを、次のア～エのうちから1つ選び、記号で答えなさい。

ア	西の端－与那国島	東の端－沖ノ鳥島
イ	西の端－与那国島	東の端－南鳥島
ウ	西の端－択捉島	東の端－沖ノ鳥島
エ	西の端－択捉島	東の端－南鳥島

問2 下線部②について、次の(1)・(2)の問いに答えなさい。

(1) 初代内閣総理大臣はだれですか。漢字で答えなさい。

(2) 内閣総理大臣についての次の文を読み、(あ)・(い)に当てはまる語句を、それぞれ答えなさい。

内閣総理大臣は、日本の平和と安全を守っている(あ)の最高司令官でもあります。国民の代表である政治家が(あ)を統制することを(い)とといいます。

問3 下線部③について、次の表を見て(1)～(3)の問いに答えなさい。

衆議院		(P)
465人	定員	248人
4年	任期	(Q)
25才以上	立候補者	30才以上
(R)	投票できる人	(R)
あり	解散	なし

(1) 表の(P)に当てはまる語句を、漢字で答えなさい。

(2) 表の(Q)・(R)に当てはまる語句の正しい組み合わせを、次のア～エのうちから1つ選び、記号で答えなさい。

- ア (Q) - 3年 (R) - 18才以上
 イ (Q) - 3年 (R) - 20才以上
 ウ (Q) - 6年 (R) - 18才以上
 エ (Q) - 6年 (R) - 20才以上

(3) 次のA～Dは、ある法律がつくられ、国民に知らされるまでの過程を示したものです。A～Dを正しい順番に並べてあるものを、下のア～エのうちから1つ選び、記号で答えなさい。

- A 委員会で賛成・反対の意見を出し合い、多数決がとられた
 B 本会議に送られ、衆議院議員全員で話し合い、多数決がとられた
 C 天皇により公布された
 D 衆議院で賛成を得て可決された法律案が、もう一つの院へ送られた

- ア A→B→C→D イ A→B→D→C
 ウ B→A→C→D エ B→A→D→C

問4 下線部④について、日本に憲法がなかった明治の時代に、^{おうべい}欧米の国々のように、国の最高のきまりである憲法を制定し、議会を開くことを政府に要求する運動が occurred ました。この運動を何といいますか。

問5 下線部⑤について、次の(1)・(2)の問いに答えなさい。

- (1) 行政機関である内閣のもとには多くの省や庁がおかれています。省や庁についての次の文を読み、(か)・(き)に当てはまる語句を、それぞれ答えなさい。

(か)省は、国の予算や財政に関する仕事をおこなう役所です。(か)省におかれた国税庁は、国民から集められた(き)を管理しています。(き)は、わたしたちの健康や生活を守るための費用など、国民生活の安定と向上のために使われています。

- (2) 内閣または内閣総理大臣の主な仕事として**適当でないもの**を、次のア～エのうちから1つ選び、記号で答えなさい。

- ア 外国と条約を結ぶ
- イ 衆議院の解散を決める
- ウ 最高裁判所の長官を指名する
- エ 裁判官をやめさせるかどうかの裁判を行う

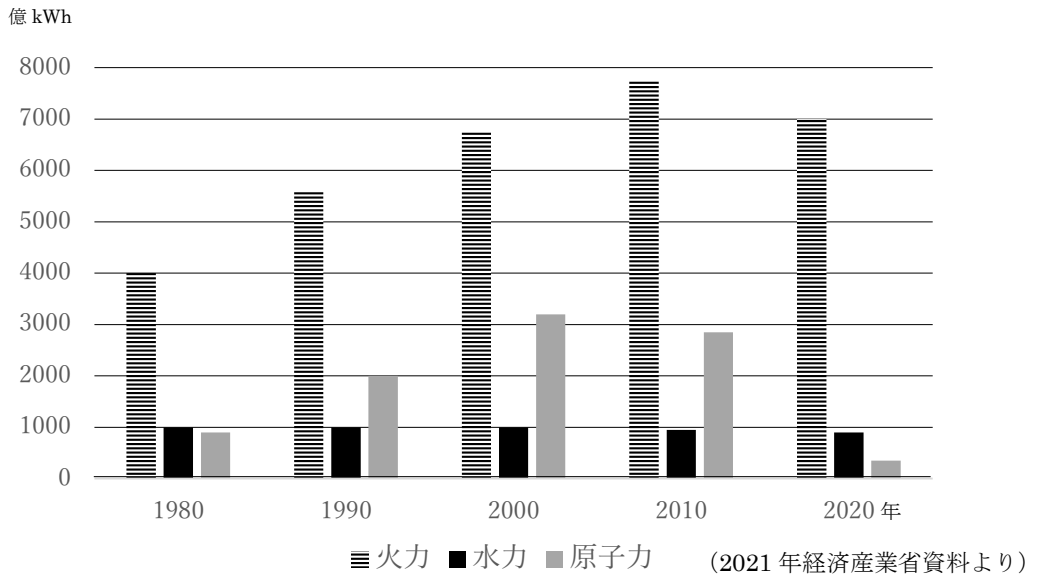
問6 下線部⑥について、次の(1)・(2)の問いに答えなさい。

- (1) 日本国憲法に定められている権利のうち、同時に国民の義務としても定められているものを、次のア～エのうちから1つ選び、記号で答えなさい。

- ア 選挙に行く
- イ 宗教を信じる
- ウ 教育を受ける
- エ 働く

- (2) 2006年に、ある機関で障害者権利条約が採択されました。この機関は、世界の平和と安全を守るために1945年につくられ、日本も1956年に加盟しました。およそ190の国が加盟しているこの機関を何といいますか。

問7 下線部⑦について、私たちの生活を支えているものに、毎日使っている電気があります。次のグラフは、発電方法別の発電量のうつつり変わりを示したものです。グラフをみて、下の(1)・(2)の問いに答えなさい。



(1) 2010年と2020年を比べると、大きな変化が起きています。どのような変化が起きたか、文章で答えなさい。

(2) (1)の変化はなぜおきましたか。その理由を説明しなさい。

問8 下線部⑧に大きな影響を与えるものとしてマスメディアがあげられます。マスメディアについて述べた次のA・Bの文を読み、それぞれの文の正誤の正しい組み合わせを、下のア～エのうちから1つ選び、記号で答えなさい。

A テレビや新聞が不確かな情報やあやまった情報を伝えてしまうことで、それに関係する人の生活に深刻な被害が発生することがある。

B 21世紀に入ると新聞の発行部数は減ってきており、その背景にはスマートフォンの利用時間の増加があると考えられている。

- | | | | | | |
|---|-----|-----|---|-----|-----|
| ア | A－正 | B－正 | イ | A－正 | B－誤 |
| ウ | A－誤 | B－正 | エ | A－誤 | B－誤 |

問9 下線部⑨について、日本は、19世紀のなかごろに外交政策を変え、世界の国々と盛んに貿易を行ってきました。これについて述べた次のA・Bの文を読み、それぞれの文の正誤の正しい組み合わせを、下のア～エのうちから1つ選び、記号で答えなさい。

A アメリカの強い態度におされた江戸幕府は、日米和親条約を結び、貿易のために5つの港を開くことを決めた。

B 明治時代の日本の主な輸出品は生糸であり、群馬県の富岡製糸場で作られた生糸は、海外へ輸出された。

ア	A－正	B－正	イ	A－正	B－誤
ウ	A－誤	B－正	エ	A－誤	B－誤