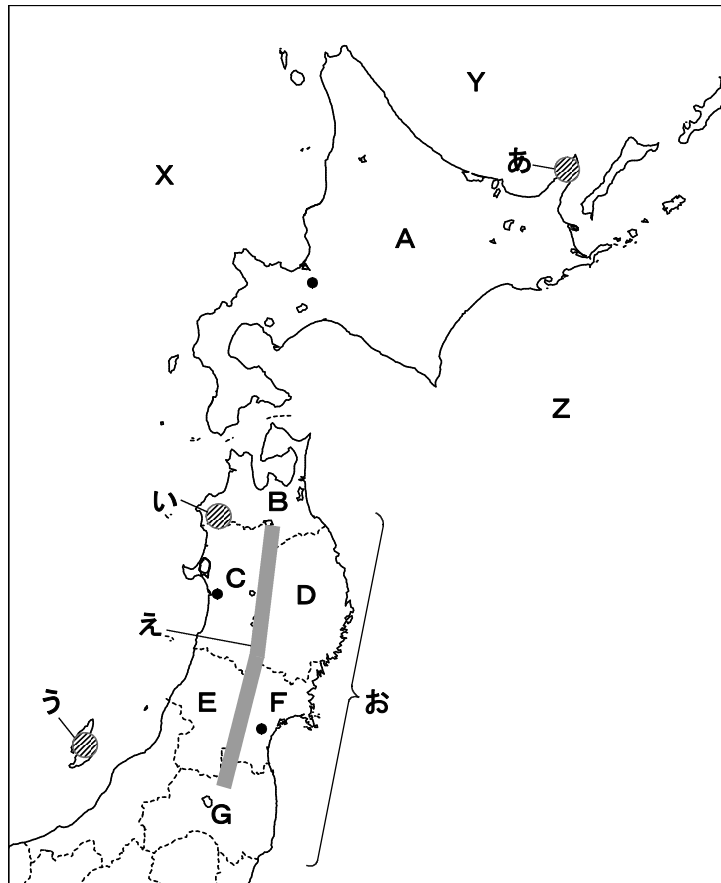


1 次の地図と、ユウキさんとエリコさんの会話を見て、あとの問いに答えなさい。



エリコ：ねえ，今年の夏休み，どこか行くの？

ユウキ：今年は北海道に行く予定なんだ。

エリコ：えー，いいな！どうやって行くの？

ユウキ：今回は，①で行くよ。時間はかかるけど，安上がりで環境^{かんきょう}にもやさしいし。

エリコ：へー，北海道って広いけど，どこに行く予定なの？

ユウキ：行きたいところはたくさんあるよ。富良野^{ふらのの}でラベンダー畑を見たいし，美瑛町^{びえい}の丘も歩いてみたい。旭山動物園^{あさひやま}にも行きたいし，函館^{はこだて}の夜景も見てみたい。それから，②先住民の文化が学べる施設^{しせつ}も見学したいな。

エリコ：どこも③自然が豊かでいいね。でも、最近では④北海道の気候も温暖化の影響を受けていて、夏の気温は上がっているし、冬は雪が減っているってニュースで見たよ。

ユウキ：そうそう、スキー場の営業期間が短くなったり、⑤オホーツク海の流氷も減ってきてるんだって。環境問題も心配だよな。

エリコ：たしかに。でも、観光地としては人気があるよね。⑥外国からの観光客も増えているし。

ユウキ：うん。でもそのせいで、人気スポットでは⑦オーバーツーリズムの問題も起きてるんだ。

エリコ：へえ、知らなかった。なんだか私も旅行に行きたくなくなってきちゃった。私は、⑧東北地方をめぐるみようかな。青森のねぶた祭りとか、⑨岩手の平泉とか、あちこちに残る⑩縄文時代の有名な遺跡にも行ってみたいな。

ユウキ：いいね。東北も自然が多くて、⑪農業や漁業がさかんだし、⑫東日本大震災からの復興も進んでるから、いろいろと学べそうだね。

エリコ：うん。夏休み、ただの観光じゃなくて、自然や地域の問題にも目を向けてみようかな。

問1 文章中の□①に適する文を、次のア～ウのうちから1つ選び、記号で答えなさい。

- ア 京都の舞鶴港からフェリー イ 神戸空港から飛行機
ウ 高速道路を使って自動車

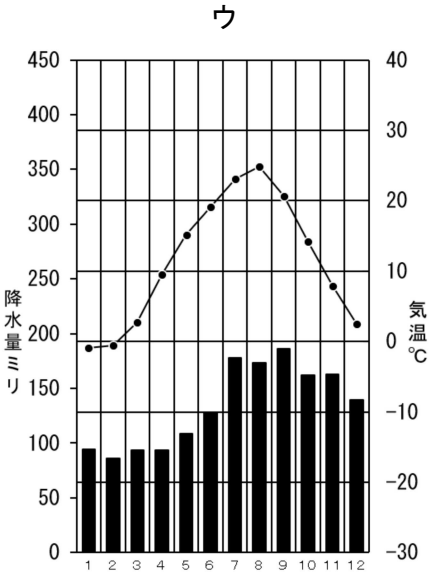
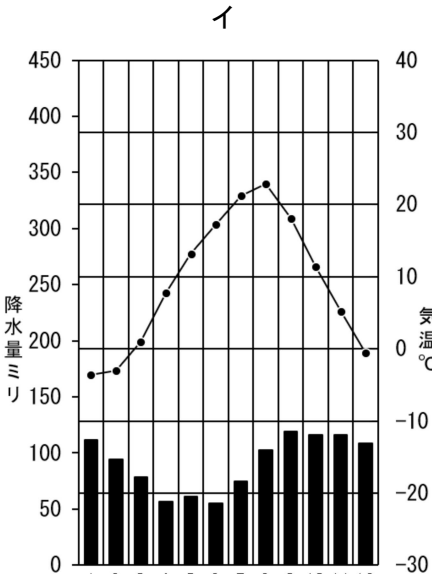
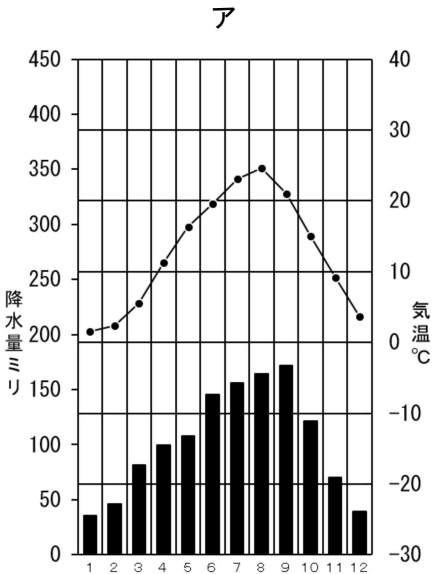
問2 下線部②について、北海道の先住民族を何といいますか。答えなさい。

問3 下線部③に関連して、世界自然遺産に関する記述として最も適切なものを、次のア～ウのうちから1つ選び、記号で答えなさい。

- ア 地図中のあは、亜熱帯の常緑広葉樹林におおわれ、希少な動植物が生息している知床である。
イ 地図中のいは、広大なブナの原生林が残り、貴重な動植物が生息する白神山地である。
ウ 地図中のうは、江戸時代から明治時代にかけて大量の金を産出した金山がある佐渡島である。

問 4 下線部④に関する次の（１）・（２）の問いに答えなさい。

（１） 次のア～ウは、地図中に●で示している、**A・C・F**の都道府県の県庁所在地の雨温図です。**F**の県庁所在地の雨温図として最も適当なものを、ア～ウのうちから１つ選び、記号で答えなさい。



(2) 気候に合わせた、北海道の家に見られる工夫として最も適当なものを、次のア～エのうちから1つ選び、記号で答えなさい。

- ア 湿気や熱を外に逃がすため、大きな窓をつくったり、部屋のしきを少なくしたりして、風通しがよくなるようにしている。
- イ 鉄筋コンクリートでできた、がんじょうな家が多く、屋根も平らな屋根にして、台風の風で飛ばされないようにしている。
- ウ 火山灰が降ることがあるので、雨どいや窓を掃除しやすい設計にしたり、屋根の角度を急にして灰がたまりにくいようにしている。
- エ かべや床に厚い断熱材を入れたり、ガラスを2枚にした窓を使ったりして、外の寒さを家の中に入れないように、熱が外に逃げないようにしている。

問5 下線部⑤について、この海を地図中のX～Zのうちから選び、記号で答えなさい。

問6 下線部⑥について、次の表は2024年に日本を訪れた外国人数を表しています。表中のア～ウの国について、下の説明文を読み、それぞれの国名を答えなさい。

順位	国・地域	訪日人数(2024)
1	ア	約882万人
2	イ	約698万人
3	台湾	約604万人
4	ウ	約272万人
5	香港	約268万人

日本政府観光局(JNTO)等の統計に基づく推計値

- ア 日本の隣国の一つで、歴史的にも深いつながりがあります。自動車や電化製品のすぐれた技術力を持った企業があります。最近では、この国の音楽や映画などの文化が世界中で人気になり、日本でも多くの人が楽しんでいます。
- イ とても人口の多い国です。長い歴史を持ち、日本にも多くの影響をあたえてきました。近年、経済が大きく成長し、スマートフォンや電化製品などを世界中に輸出しています。日本にとっても最大の貿易相手国です。
- ウ 世界で最も経済力と影響力のある国のひとつで、さまざまな人種や文化が集まっています。文化や情報技術などの分野では世界をリードしています。自由と民主主義を大切にし、多様性を認め合う社会をめざしてきました。

問7 下線部⑦について正しく説明したものを、次のア～エのうちから1つ選び、記号で答えなさい。

- ア お店やホテルの数が増え、観光地がますますにぎやかになっていくこと。
- イ 観光地の文化や自然が守られ、人が多く来るほど地域が美しくなること。
- ウ ゴミや交通渋滞じゅうたいが増え、地元の人のくらしや自然に悪影響が出ること。
- エ 写真をとる人が多くなり、SNS で有名になって、さらに観光客が増えること。

問8 下線部⑧に関連して、東北地方の中央部を南北に走る地図中のえの山脈を、次のア～エのうちから1つ選び、記号で答えなさい。

- ア あかいし 赤石山脈
- イ おうう 奥羽山脈
- ウ ひだ 飛騨山脈
- エ ひだか 日高山脈

問9 下線部⑨に関する記述として最も適当なものを、次のア～エのうちから1つ選び、記号で答えなさい。

- ア 奈良時代に、聖武天皇によって国分寺と国分尼寺にじが建てられた。
- イ 平安時代に、奥州藤原氏おうしゅうふじわらによって中尊寺金色堂が建てられた。
- ウ 鎌倉時代かまくらに、平清盛によって厳島神社いつくしまが建てられた。
- エ 江戸時代えどに、徳川家光によって日光東照宮が建てられた。

問10 下線部⑩に関する記述として最も適当なものを、次のア～エのうちから1つ選び、記号で答えなさい。

- ア 豊作を祈るまじないのための埴輪はにわや、人や馬、家などさまざまな形をした土偶どぐうが作られた。
- イ 人々は、米作りをはじめ、湿地しつちを整備して水田を作った。ムラは大きくなり、王が支配するクニができた。
- ウ 人々は、貝や木の実を集め、シカやイノシシなどの動物を狩かって食料とした。煮炊にたきのために土器も作った。
- エ 中国や朝鮮半島ちようせんから多くの人が移り住み、新しい技術や文化を伝えた。有力な豪族ごうぞくは各地に古墳こふんをつくった。

問11 下線部⑪について、次の表は、**米・りんご・さくらんぼ・牛乳**の4つの農産物の生産量が多い都道府県を表しており、表中の**A～G**は地図中の**A～G**の都道府県です。**ア～エ**にあてはまる農産物をそれぞれ答えなさい。

順位	ア	イ	ウ	エ
1	E	新潟県	A	B
2	A	A	栃木県	長野県
3	山梨県	C	熊本県	D
4	C	F	群馬県	E
5	B	G	D	G

問12 下線部⑫に関する次の(1)・(2)の問いに答えなさい。

(1) 地図中の**お**の海岸沿いに大きな被害を与えた、地震にともなって起こった自然災害を答えなさい。

(2) (1)の自然災害に対する備えやいざというときの行動に関する次の**A～C**の記述の正誤を判断し、正しいものの組み合わせとして最も適当なものを、下の**ア～キ**のうちから1つ選び、記号で答えなさい。

A ハザードマップで家や学校の近くにある避難場所や避難ルートを確認し、家族で連絡方法や集合場所を決めておく。

B 強いゆれを感じたらまずは避難情報を確認し、避難の指示が出ている場合のみ高い場所に避難する。

C 道路が損傷していたり渋滞が起こったりすることがあるため、自転車や車より徒歩で避難した方がよい。また、一度避難したら絶対に引き返さない。

ア Aのみ正しい イ Bのみ正しい ウ Cのみ正しい
 エ A・Bが正しい オ A・Cが正しい カ B・Cが正しい
 キ すべて正しい

問13 地図中の**D・F**の県庁所在地の都市名を答えなさい。

2 次のX県の地図とそこを訪れた際に撮った写真について、あとの問いに答えなさい。

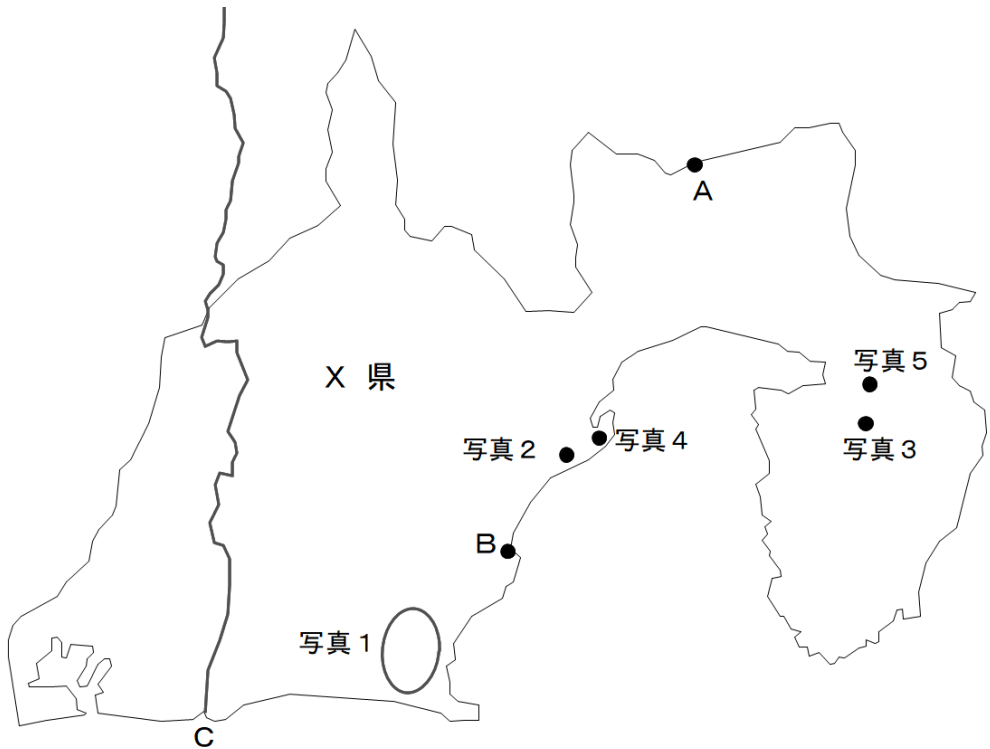


写真 1



写真 1 は茶畑です。X 県に入ると新幹線
の車窓からこの景色を見ることができます。「一番茶」をつむ 4 月下旬 ^{じゆん}ごろ
から 5 月上旬が茶つみの最盛期です。

写真 2



写真 2 は ^{やよい}弥生時代を代表する ^{いせき}遺跡です。今から
1800 年ほど前の水田やむらのあとが残る遺跡
で、住居と保存に使われた ^{たかゆか}高床倉庫のあとが見
つかっています。

写真3



写真3は伊豆の修禅寺です。このお寺は鎌倉幕府 2 代将軍の源頼家が閉じ込められ、殺されたことでも知られています。

写真4



写真4は久能山東照宮です。この神社は江戸幕府を開いた徳川家康が 1616 年に亡くなった際に、遺言によりこの地に埋葬されました。

写真5




写真5は伊豆韮山の反射炉です。江戸時代末期の大砲をつくるためのものです。鉄を溶かす溶解炉で、明治時代の産業発達を支え、明治日本の産業革命遺産の 1 つとして世界文化遺産にも登録されています。

～写真1について～

問1 次のア～エの表は、みかん・いちご・茶・わさびの 4 つの農産物について、生産量が多い上位 5 つの都道府県を表しています。「茶」の収穫量を表しているものを、ア～エのうちから 1 つ選び、記号で答えなさい。

ア		イ		ウ		エ	
X	27,200	栃木	24,600	和歌山	143,900	X	465.1
鹿児島	26,100	福岡	16,000	愛媛	111,100	長野	393.0
三重	5,220	熊本	11,700	X	99,800	岩手	326.7
宮崎	2,940	愛知	11,100	熊本	80,600	高知	49.9
京都	2,640	X	10,600	長崎	43,600	島根	33.2

日本国勢図会 2025/26 および 農林水産省「特用林産物生産統計調査」より (単位 トン)

～写真2について～

問2 弥生時代には大陸や朝鮮半島から移り住んだ人々によって伝えられた米作りが本格的にはじまり、各地に広がっていきました。米の収穫の際に使われた石器である石包丁はどのような形ですか。その絵を解答らんに書きなさい。

問3 弥生時代にはむらどうしで争いが起こるようになりました。争いがあつた証拠(痕跡)としてまちがっているものを、次のア～エのうちから1つ選び、記号で答えなさい。

- ア 物見やぐらや、むらのまわりに深い堀(ほり)をもつ集落がつくられるなど、防御性を備えた集落がみられるようになったこと。
- イ 遺跡から人骨にささった矢じりや、先の欠けた剣(けん)が出土していること。
- ウ 大陸から伝わった青銅器が主に武器として使用されたことやこの時代に戦いの勝利することを願ってお寺が各地につくられたこと。
- エ 中国でまとめられた古い歴史書の中に日本で争いが起こっていたことが記されていること。

～写真3について～

問4 鎌倉幕府は武士による政府で、将軍と御家人との強い結びつきによって成り立っていました。その結びつきが「御恩」と「奉公」です。「奉公」は御家人が戦いが起これば「いざ鎌倉」と一族をひきいて将軍のもとへかけつけ、命がけで戦うことでした。一方、将軍から御家人に対しての「御恩」とは何ですか。その内容を簡単に説明しなさい。

問5 鎌倉時代について述べた次のア～エの文のうち、まちがっているものを1つ選び、記号で答えなさい。

- ア 全国に守護・地頭が置かれ、荘園など領地ごとに置かれた守護は税の取り立てなどを、国ごとに置かれた地頭は軍事・警察の仕事を行った。
- イ 1221年、朝廷が鎌倉幕府を倒すための兵を集め戦った。これを承久の乱という。この乱に勝利した幕府は、朝廷に対する優位を確立した。
- ウ 執権北条時宗の時、元軍が二度にわたって九州北部に攻め込んできた。元軍の集団戦法や火薬兵器(てつほう)に苦しみながらも御家人たちは激しく戦い、元軍を退けた。
- エ 農業では牛や馬にすきを引かせて農地を深く耕し、草や灰を肥料にするなど、収穫も増加した。また稲を刈り取ったあとに麦などを作る二毛作も広がった。

～写真4について～

問6 次の江戸時代の(1)～(3)の人物に関する文を、あとのア～カのうちから1つずつ選び、それぞれ記号で答えなさい。

(1) 本居宣長^{もとおり のりなが}

(2) 大塩平八郎^{へいはちろう}

(3) 坂本龍馬^{りょうま}

ア オランダ語で書かれた人体解剖書^{かいぼう}を見てその本の正確さに驚き^{おどろ}、この本の翻訳^{ほんやく}に取り組み、「解体新書」として出版した。

イ 代表的な浮世絵師^{うきよえ}の一人。風景画に関心を深め、江戸から京都までの風景をえがいた「東海道五十三次」を描いた。

ウ 土佐藩^{はん}を脱藩し、勝海舟^{かいしゅう}の弟子になる。国際的な視野を身につけ、対立する薩摩藩^{さつま}と長州藩に同盟を結ばせた。

エ もと幕府の役人で、天明の飢饉^{ききん}の際の幕府の対応^{いこ}に怒り、生活に苦しむ人々を救うために兵をあげた。

オ 「国学」を学び、奈良時代にまとめられた『古事記』の研究を進め、30年あまりにわたって44巻にのぼる『古事記伝』を書きあげた。

カ 歌舞伎^{かぶき}や人形浄瑠璃^{じょうるり}の脚本^{きゃくほん}を書き、その発展に大きく貢献^{こうけん}した。代表的な脚本としては「曾根崎心中^{そねざき}」などがある。

問7 江戸時代は日本人が外国に行くことが禁止され、貿易も一部の国に制限されました。このような制度を鎖国^{きこく}といいますが、そのことについて次の(1)・(2)に答えなさい。

(1) 鎖国体制のもとでも貿易を行っていたヨーロッパの国はどこですか。次のア～エのうちから1つ選び、記号で答えなさい。

ア イギリス

イ スペイン

ウ 中国(清)

エ オランダ

(2) 将軍がかわるごとに朝鮮から送られた使節を何といいますか。漢字で答えなさい。

～写真5について～

問8 反射炉に関連して、次の表ア～エの表は、銅・鉄鉱石・原油・プラスチックの日本の輸入先の上位3か国（2023年）を表したものです。「鉄鉱石」の輸入先を表しているものを、ア～エのうちから1つ選び、記号で答えなさい。

ア		イ		ウ		エ	
サウジアラビア	41.0%	チリ	31.9%	中国	19.0%	オーストラリア	49.9%
アラブ首長国連邦	39.3%	インドネシア	16.4%	アメリカ合衆国	15.8%	ブラジル	34.5%
クウェート	8.9%	オーストラリア	16.0%	韓国	13.1%	カナダ	8.1%

日本国勢図会 2025/26 より

問9 明治時代の出来事としてまちがっているものを、次のア～エのうちから1つ選び、記号で答えなさい。

ア 土地の値段を基準に地租^{ちそ}という税を定め、豊作や不作に関係なく、決まった額の税金を納めさせる地租改正を行った。

イ 外国の言葉を日本語に翻訳^{ほんやく}したり、欧米^{おうべい}の文物をより理解したりするためにカタカナがつくり出され、広く使用されるようになった。

ウ 和歌山県沖で遭難^{そうなん}したイギリス船の船長や船員はボートで脱出^{だっしゅつ}して助かり、日本人乗客は全員溺^{おぼ}れて亡くなるノルマントン号事件が起こった。

エ 国会を開くように求める自由民権運動が広がりを見せ、政府を批判する演説は、厳しい取り締まり^しを受けた。

問 10 明治時代には「大日本帝国憲法」が制定されました。現在の「日本国憲法」と比較した次の表の（ 1 ）～（ 3 ）にあてはまるものを、あとのア～カのうちから1つずつ選び、それぞれ記号で答えなさい。

	大日本帝国憲法	日本国憲法
主権者	（ 1 ）	国民
基本的人権	（ 2 ）の範囲内で権利を認める。	おかすことのできない永久の権利として保障される。
国民の義務	兵役，（ 3 ）	勤労，（ 3 ），子どもに教育を受けさせる
戦争	軍隊をもち，（ 1 ）に指揮権がある。	戦争を放棄する。

- ア 法律
- イ 内閣総理大臣
- ウ 良心
- エ 天皇
- オ 投票
- カ 納税

～地図について～

問 11 次のランキングは日本の最低気温，最大瞬間風速（3秒間の平均）を表したものです。表の（ ）には地図中のAの地点があてはまります。その場所とはどこですか。漢字で答えなさい。

最低気温			最大瞬間風速		
1	北海道旭川	－41.0℃【1902.1.25】	1	X県（ ）	91.0m/秒【1966.9.25】
2	北海道帯広	－38.2℃【1902.1.26】	2	沖縄県宮古島	85.3 m/秒【1966.9. 5】
3	北海道江丹別	－38.1℃【1978.2.17】	3	高知県室戸岬	84.5 m/秒【1961.9.16】
4	X県（ ）	－38.0℃【1981.2.27】	4	沖縄県与那国島	81.1 m/秒【2015.9.28】
5	北海道歌登	－37.9℃【1978.2.17】	5	鹿児島県名瀬	78.9 m/秒【1970.8.13】

【 】内は観測年月日

日本国勢図会 2025/26 より

問 12 地図中 **B** は日本で有数の水揚げ量をほこる漁港です。次の (1)・(2) の問いに答えなさい。

(1) その漁港はどこですか、次の **A**～**E** のうちから 1 つ選び、記号で答えなさい。

A 石巻港 **I** 明石港 **ウ** 釧路港 **E** 焼津港

(2) **B** の港で多く水揚げされる魚として最も適当なものを、次の **A**～**E** のうちから 1 つ選び、記号で答えなさい。

A まぐろ・かつお **I** たい・たこ
ウ ほたて・ぶり **E** さけ・かに

問 13 **X** 県と接している都道府県としてまちがっているものを、次の **A**～**オ** のうちから 1 つ選び、記号で答えなさい。

A 愛知県 **I** 山梨県 **ウ** 三重県 **E** 長野県

問 14 **X** 県を西から東へ移動中に、地図中の **C** の河川を越えました。その河川として正しいものを、次の **A**～**E** のうちから 1 つ選び、記号で答えなさい。

A 筑後川 **I** 天竜川 **ウ** 利根川 **E** 信濃川

このページに問題はありません。

3 メイさんとケンさんの会話文を読んで、あとの問いに答えなさい。

ケン：ねえ、お姉ちゃん、2025年の7月に参議院議員の選挙があったよね。最近、少し政治に興味を持つようになったんだけど、いろいろ聞いてもいいかな？

メイ：いいよ。学校で習ったことくらいなら答えられるしね。どんなことを聞きたいの？

ケン：2025年の7月にあったのは参議院の選挙だよね。参議院について教えてよ。

メイ：そうね。ケンも小学校で習ったと思うけど、①国家の権力は大きく3つに分けられて、法律をつくる立法権、法律に基づいて政治を行う行政権、裁判を行う②司法権があるの。日本では立法権をもっているのが③国会で、国会は二院制という制度をとっていて、衆議院と参議院があるのよ。

ケン：衆議院と参議院はどう違うんだっけ？

メイ：議員の数や任期が違うし、選挙のやり方も違う。④都道府県単位の選挙や都道府県よりさらに小さい選挙区単位の選挙、日本全国単位の選挙などが組み合わされているわ。選挙のしくみを理解するだけでも最初は大変よね。

ケン：どうして二院制にしているの？

メイ：二院制の良い点は、⑤ ことができる所ね。

ケン：選挙で衆議院や参議院の議員を選ぶときに、大人はどうやって選んでいるのかな。政治は難しすぎて、どこを見てどう選んだらいいのか分からないんだ。

メイ：確かにそうよね。物価・少子高齢化・⑥エネルギー・⑦農業など国内問題への取り組み、⑧税金の使い道、⑨外国との関わり、⑩国防、AIをどう政治に活用していくかなど、勉強しないと分からないことばかりだもんね。まずは普段生活していて自分が重要だと思う分野や、関心がある分野から考えてみるといいよ。ケンは何か気になる⑪ニュースがある？

ケン：僕が気になるのは世界で起きている⑫戦争のことと、教育についてかな。今もまだ世界のいろんなところで戦争がおきていて、そういうニュースを聞いたときに、なぜ戦争はなくなるんだろうと思うんだ。それと、僕は将来、学校の先生になりたいという気持ちが少しあるけど、先生という仕事は大変みたいで、先生になりたい人が減っていつてると聞いたよ。この先、先生になりたい人がいなくなったら日本はどうなるのかなって心配になったことがあるよ。

メイ：いいじゃない。そういう身近なところから考えて、自分の考えに近い立候補者や政党をさがしてみたらどうかな。でも自分の考えとすべて合っている立候補者や政党というのはめったにないから、自分の考えに近い立候補者や政党をさがしてみるとね。だから、まずはしっかり勉強をして自分の考えを持つことが大切だと思うよ。

ケン：ありがとう、お姉ちゃん。自分が大人になったらちゃんと投票ができるように、しっかり勉強して準備しておくよ。

問 1 下線部①について、国家がもつ 3 つの権力を分けて、互いにチェックさせるしくみを何とといいますか。

問 2 下線部②について、次の (1)・(2) の問いに答えなさい。

(1) 日本の司法には「三審制」という制度があります。これについて述べた文として正しいものを、次のア～エのうちから 1 つ選び、記号で答えなさい。

- ア すべての裁判は、必ず 3 人の裁判官が担当する。
- イ 裁判には、裁判官・検察官・弁護士の 3 者が必ず関わる。
- ウ 判決に納得がいかない場合、3 回まで上級の裁判所に不服申し立てができる。
- エ 裁判の当事者が希望する場合、裁判を 3 回まで受けられる。

(2) 日本の裁判員制度について述べた次の A・B の文を読み、それぞれの文の正誤の正しい組み合わせを、下のア～エのうちから 1 つ選び、記号で答えなさい。

A 裁判員制度は、市民が刑事事件の裁判に参加する制度であり、裁判官と共に被告人の有罪・無罪を決定する。

B 裁判員は、殺人事件など重大な犯罪に関する裁判を担当するため、裁判員の心理的な負担はそれなりに大きいものがある。


- | | | | | | |
|---|-----|-----|---|-----|-----|
| ア | A－正 | B－正 | イ | A－正 | B－誤 |
| ウ | A－誤 | B－正 | エ | A－誤 | B－誤 |

問3 下線部③について、国会議事堂には、日本の議会政治の基礎^{きそ}を作ること^{こうけん}に貢献した次の3人の銅像が立っています。これらの人物について、ケンの友人の3人が話をしています。3人のうち、正しいことを言っているのは誰^{だれ}ですか。下のア～エのうちから1つ選び、記号で答えなさい。

A



B



C



あかり「Aは自由民権運動^{かつやく}で活躍し、自由党を作った板垣退助^{いたがき}です。」
さくら「Bは立憲改進黨を作って、日本最初の総理大臣^{いとう}になった伊藤博文^{いとう}です。」
そうた「Cは『学問のすゝめ』を著し、憲法制定に深く関わった大隈重信^{おおくま}です。」

- ア あかりだけが正しい
- イ さくらだけが正しい
- ウ そうただけが正しい
- エ 3人とも正しい

問4 下線部④について、次の文が説明している都道府県名を漢字で答えなさい。

全国有数のうどんの産地として知られています。面積は全国で一番小さく、都道府県庁所在地は高松市です。

問5 文中の ⑤ に、次の語句を必ず用いて適切な文を補いなさい。具体的な国会の役割にも必ずふれて答えなさい。

慎重（しんちょう）

問6 下線部⑥について、日本で発電に使われている再生可能エネルギーの例を1つ答えなさい。

問7 下線部⑦について、次の資料は、日本の農業に関するものです。この表から読み取れる日本の農業の問題点を1つ答えなさい。

経営主の年齢階層別の経営体の数（2024年）

	29歳 以下	30～39	40～49	50～59	60～69	70歳 以上	計
全国	1.6	14.7	49.1	102.3	226.2	489.4	883.3
北海道	0.0	2.7	6.6	7.2	8.1	6.7	31.3
東北	0.3	2.5	8.3	18.6	43.9	83.2	156.8
北陸	0.0	0.8	2.0	6.8	15.8	31.1	56.5
関東・東山	0.2	2.4	10.0	22.0	48.4	117.0	200.0
東海	0.0	1.0	3.6	7.4	19.4	44.9	76.3
近畿	0.1	0.8	3.7	9.9	20.4	49.8	84.7
中国	0.1	0.4	3.1	7.4	17.9	48.2	77.1
四国	0.1	0.7	2.4	5.5	12.7	33.6	55.0
九州	0.7	3.4	8.4	16.3	36.5	71.1	136.4
沖縄	0.0	0.1	0.6	1.2	2.6	4.0	8.5

農林水産省ホームページ資料より 単位は千経営体

問8 下線部⑧について、近年の日本における税金の最も多い使い道を、次のア～エのうちから1つ選び、記号で答えなさい。

- ア 道路や橋などを整備する公共事業費
- イ 教育や科学技術の研究のために使われる^{しんこう}振興費
- ウ 人々の生活を支えるための社会保障費
- エ 日本を防衛するための防衛費

問9 下線部⑨について、次の表は日本の輸出入品を示したものです。表中の **A** ～ **C** に入る正しい語句の組み合わせを、下の **ア～エ** のうちから 1 つ選び、記号で答えなさい。

日本の輸出品・輸入品（2023 年）				
順位	輸出品	割合(%)	輸入品	割合(%)
1	A	17.1	C	10.3
2	B 等電子部品	5.4	液化天然ガス	5.9
3	鉄鋼	4.5	石炭	5.3
4	A の部品	3.8	医薬品	4.3
5	B 等製造装置	3.5	B 等電子部品	4.2

財務省ホームページ資料より

- ア** **A**－自動車 **B**－半導体 **C**－小麦
- イ** **A**－自動車 **B**－半導体 **C**－石油
- ウ** **A**－半導体 **B**－自動車 **C**－小麦
- エ** **A**－半導体 **B**－自動車 **C**－石油

問10 下線部⑩について述べた次の **A・B** の文を読み、それぞれの文の正誤の正しい組み合わせを、下の **ア～エ** のうちから 1 つ選び、記号で答えなさい。

- A** 日本は、日本国憲法で平和主義の立場を明らかにしており、自分から戦わないことを決めている。
- B** 自衛隊は、外国から日本を守ることに専念する立場を原則としているため、災害時の救助活動は別の組織に任せている。

- ア** **A**－正 **B**－正 **イ** **A**－正 **B**－誤
- ウ** **A**－誤 **B**－正 **エ** **A**－誤 **B**－誤

問 11 下線部⑪について、近年、生成 A I の登場などによりフェイクニュースを簡単に作ることができる時代となり、ニュースや情報の正しさを見きわめる能力がますます重要になっています。マスメディアから得られるニュースや情報の正しさを見きわめ、選び取る能力の名前と、その正しい実践例^{じっせん}の組み合わせを、次のア～エのうちから 1 つ選び、記号で答えなさい。

- ア デジタル・デバイド — 新聞で得られる情報はすべて信じてよい
- イ デジタル・デバイド — 一つの情報源だけを信じるのがよい
- ウ メディア・リテラシー — いろいろな情報源を比べるのがよい
- エ メディア・リテラシー — 情報の面白さを重視するのがよい

問 12 下線部⑫に関連して、19 世紀の戦争に日清戦争があります。日清戦争について、次の（１）・（２）の問いに答えなさい。

（１） 日清戦争が起こった主な原因として正しいものを、次のア～エのうちから 1 つ選び、記号で答えなさい。

- ア 日本と清が朝鮮^{ちようせん}の支配をめぐって対立したこと
- イ 日本が琉球^{りゅうきゅう}を自国の領土に入れたこと
- ウ 朝鮮がロシアに占領^{せんりよう}されたこと
- エ 日本と清との間で貿易摩擦^{まきさつ}が激しくなったこと

（２） 日本は、日清戦争の勝利で得た賠償金^{ばいしょう}を使って製鉄所の建設に着手しました。この製鉄所をきっかけに発展した工業地帯はどこですか。次のア～エのうちから 1 つ選び、記号で答えなさい。

- ア 京浜工業地帯^{けいひん}
- イ 中京工業地帯
- ウ 阪神工業地帯
- エ 北九州工業地帯

問 13 メイさんとケンさんの会話文の内容と合うものを、次のア～エのうちから 1 つ選び、記号で答えなさい。

- ア 日本の二院制は、ヨーロッパの影^{えいきょう}響を受けて明治時代に始まったもので、当時は参議院と貴族院の二院から成り立っていた。
- イ 政治は難しい内容を多く含^{ふく}んでいるため、有権者は関心のある分野について調べることが重要であり、他の分野については知らなくても仕方がない。
- ウ 政治が分からなくても、身近なところから考えていくことや、世の中について学び、自分の考えを持つことが大切である。
- エ 自分の考えと完全に合っている政治家を見つけることがもっとも大切であり、あくまでそれを探し続けるべきである。